


सामाजिक विज्ञान  
संसाधन एवं विकास



कक्षा 8 के लिए  
भूगोल की पाठ्यपुस्तक



0859

विद्यया ऽ मृतमश्नुते



एन सी ई आर टी  
NCERT

राष्ट्रीय शैक्षिक अनुसंधान और प्रशिक्षण परिषद्  
NATIONAL COUNCIL OF EDUCATIONAL RESEARCH AND TRAINING

**0859 – संसाधन एवं विकास**  
कक्षा 8 के लिए पाठ्यपुस्तक

ISBN 978-81-7450-823-2

### प्रथम संस्करण

फरवरी 2008 माघ 1929

### पुनर्मुद्रण

जनवरी 2009, जनवरी 2010,

जनवरी 2011, जून 2012,

मार्च 2013, नवंबर 2013,

नवंबर 2014, जनवरी 2016,

दिसंबर 2016, दिसंबर 2017,

जनवरी 2019, सितंबर 2019,

जनवरी 2021 और नवंबर 2021

### संशोधित संस्करण

नवंबर 2022 कार्तिक 1944

### पुनर्मुद्रण

मार्च 2024 चैत्र 1946

PD 25T SU

© राष्ट्रीय शैक्षिक अनुसंधान और प्रशिक्षण परिषद्,  
2008, 2022

₹ 65.00

एन.सी.ई.आर.टी. वाटरमार्क 80 जी.एस.एम. पेपर  
पर मुद्रित।

प्रकाशन प्रभाग में सचिव, राष्ट्रीय शैक्षिक अनुसंधान और  
प्रशिक्षण परिषद्, श्री अरविंद मार्ग, नई दिल्ली 110 016  
द्वारा प्रकाशित तथा रॉयल ऑफ़सेट प्रिंटेर्स, ए-89/1,  
नारायणा इंडस्ट्रियल एरिया, फ़ेज-II, नई दिल्ली 110028  
द्वारा मुद्रित।

### सर्वाधिकार सुरक्षित

- प्रकाशक की पूर्व अनुमति के बिना इस प्रकाशन के किसी भाग को छापना तथा इलेक्ट्रॉनिकी, मशीनी, फोटोप्रतिलिपि, रिकॉर्डिंग अथवा किसी अन्य विधि से पुनः प्रयोग पद्धति द्वारा उसका संग्रहण अथवा प्रसारण वर्जित है।
- इस पुस्तक की बिक्री इस शर्त के साथ की गई है कि प्रकाशक की पूर्व अनुमति के बिना यह पुस्तक अपने मूल आवरण अथवा जिल्द के अलावा किसी अन्य प्रकार से व्यापार द्वारा उधारी पर, पुनर्विक्रय या किराए पर न दी जाएगी, न बेची जाएगी।
- इस प्रकाशन का सही मूल्य इस पृष्ठ पर मुद्रित है। रबड़ की मुहर अथवा चिपकाई गई पर्ची (स्टिकर) या किसी अन्य विधि द्वारा अंकित कोई भी संशोधित मूल्य गलत है तथा मान्य नहीं होगा।

### एन सी ई आर टी के प्रकाशन प्रभाग के कार्यालय

एन.सी.ई.आर.टी. कैंपस  
श्री अरविंद मार्ग  
नयी दिल्ली 110 016 फोन : 011-26562708  
108, 100 फीट रोड  
हेली एक्सटेंशन, होस्टेकेरे  
बनाशकरी III इस्टेज  
बैंगलूरु 560 085 फोन : 080-26725740  
नवजीवन ट्रस्ट भवन  
डाकघर नवजीवन  
अहमदाबाद 380 014 फोन : 079-27541446  
सी.डब्ल्यू.सी. कैंपस  
निकट: धनकल बस स्टॉप पनिहटी  
कोलकाता 700 114 फोन : 033-25530454  
सी.डब्ल्यू.सी. कॉम्प्लेक्स  
मालीगांव  
गुवाहाटी 781 021 फोन : 0361-2674869

### प्रकाशन सहयोग

अध्यक्ष, प्रकाशन प्रभाग : अनूप कुमार राजपूत  
मुख्य संपादक : श्वेता उप्पल  
मुख्य उत्पादन अधिकारी : अरुण चितकारा  
मुख्य व्यापार प्रबंधक (प्रभारी) : अमिताभ कुमार  
सहायक संपादक : आर. एन. भारद्वाज  
सहायक उत्पादन अधिकारी : दीपक जैसवाल

### आवरण, सज्जा एवं चित्रांकन

ब्लूफ़िश

कार्टोग्राफी

कार्टोग्राफिक डिजाइंस एजेंसी

## आमुख

राष्ट्रीय पाठ्यचर्या की रूपरेखा (2005) सुझाती है कि बच्चों के स्कूली जीवन को बाहर के जीवन से जोड़ा जाना चाहिए। यह सिद्धांत किताबी ज्ञान की उस विरासत के विपरीत है जिसके प्रभाववश हमारी व्यवस्था आज तक विद्यालय और घर के बीच अंतराल बनाए हुए है। नयी राष्ट्रीय पाठ्यचर्या पर आधारित पाठ्यक्रम और पाठ्यपुस्तकें इस बुनियादी विचार पर अमल करने का प्रयास है। इस प्रयास में हर विषय को एक मजबूत दीवार से घेर देने और जानकारी को रटा देने की प्रवृत्ति का विरोध शामिल है। आशा है कि ये कदम हमें राष्ट्रीय शिक्षा नीति (1986) में वर्णित बाल-केंद्रित व्यवस्था की दिशा में काफ़ी दूर तक ले जाएँगे।

इस प्रयत्न की सफलता अब इस बात पर निर्भर है कि विद्यालयों के प्राचार्य और अध्यापक बच्चों को कल्पनाशील गतिविधियों और सवालों की मदद से सीखने और सीखने के दौरान अपने अनुभवों पर विचार करने का अवसर देते हैं। हमें यह मानना होगा कि यदि जगह, समय और आज्ञादी दी जाए तो बच्चे बड़ों द्वारा सौंपी गई सूचना-सामग्री से जुड़कर और जूझकर नए ज्ञान का सृजन करते हैं। शिक्षा के विविध साधनों एवं स्रोतों की अनदेखी किए जाने का प्रमुख कारण पाठ्यपुस्तक को परीक्षा का एकमात्र आधार बनाने की प्रवृत्ति है। सर्जना और पहल को विकसित करने के लिए ज़रूरी है कि हम बच्चों को सीखने की प्रक्रिया में पूरा भागीदार मानें और बनाएँ, उन्हें ज्ञान की निर्धारित खुराक का ग्राहक मानना छोड़ दें।

ये उद्देश्य स्कूल की दैनिक जिंदगी और कार्यशैली में काफ़ी फेरबदल की माँग करते हैं। दैनिक समय-सारणी में लचीलापन उतना ही ज़रूरी है जितनी वार्षिक कैलेंडर के अमल में चुस्ती, जिससे शिक्षण के लिए नियत दिनों की संख्या हकीकत बन सके। शिक्षण और मूल्यांकन की विधियाँ भी इस बात को तय करेंगी कि यह पाठ्यपुस्तक विद्यालय में बच्चों के जीवन को मानसिक दबाव तथा बोरियत की जगह खुशी का अनुभव बनाने में कितनी प्रभावी सिद्ध होती है। बोझ की समस्या से निपटने के लिए पाठ्यक्रम निर्माताओं ने विभिन्न चरणों में ज्ञान का पुनर्निर्धारण करते समय बच्चों के मनोविज्ञान एवं अध्यापन के लिए उपलब्ध समय का ध्यान रखने की पहले से अधिक सचेत कोशिश की है। इस कोशिश को और गहराने के यत्न में यह पाठ्यपुस्तक सौच-विचार और विस्मय, छोटे समूहों में विचार-विमर्श और ऐसी गतिविधियों को प्राथमिकता देती है जिन्हें करने के लिए व्यावहारिक अनुभवों की आवश्यकता होती है।

राष्ट्रीय शैक्षिक अनुसंधान और प्रशिक्षण परिषद् इस पुस्तक की रचना के लिए बनाई गई पाठ्यपुस्तक निर्माण समिति के परिश्रम के लिए कृतज्ञता व्यक्त करती है। परिषद् सामाजिक विज्ञान पाठ्यपुस्तक सलाहकार समिति के अध्यक्ष प्रोफ़ेसर हरि वासुदेवन और इस पाठ्यपुस्तक समिति की मुख्य सलाहकार विभा पार्थसारथी की विशेष आभारी हैं। इस पाठ्यपुस्तक के विकास में कई शिक्षकों ने योगदान दिया, इस योगदान को संभव बनाने के लिए हम उनके प्राचार्यों के

आभारी हैं। हम उन सभी संस्थाओं और संगठनों के प्रति कृतज्ञ हैं जिन्होंने अपने संसाधनों, सामग्री और सहयोगियों की मदद लेने में हमें उदारतापूर्वक सहयोग दिया। हम माध्यमिक एवं उच्च शिक्षा विभाग, मानव संसाधन विकास मंत्रालय द्वारा प्रोफ़ेसर मृणाल मीरी एवं प्रोफ़ेसर जी.पी. देशपांडे की अध्यक्षता में गठित निगरानी समिति (मॉनिटरिंग कमेटी) के सदस्यों को अपना मूल्यवान समय और सहयोग देने के लिए धन्यवाद देते हैं। व्यवस्थागत सुधारों और अपने प्रकाशनों में निरंतर निखार लाने के प्रति समर्पित परिषद् टिप्पणियों एवं सुझावों का स्वागत करेगी जिनसे भावी संशोधनों में मदद ली जा सके।

नई दिल्ली  
20 नवंबर 2007

निदेशक  
राष्ट्रीय शैक्षिक अनुसंधान  
और प्रशिक्षण परिषद्

## पाठ्यपुस्तकों में पाठ्य सामग्री का पुनर्संयोजन

कोविड-19 महामारी को देखते हुए, विद्यार्थियों के ऊपर से पाठ्य सामग्री का बोझ कम करना अनिवार्य है। राष्ट्रीय शिक्षा नीति, 2020 में भी विद्यार्थियों के लिए पाठ्य सामग्री का बोझ कम करने और रचनात्मक नज़रिए से अनुभवात्मक अधिगम के अवसर प्रदान करने पर जोर दिया गया है। इस पृष्ठभूमि में, राष्ट्रीय शैक्षिक अनुसंधान और प्रशिक्षण परिषद् ने सभी कक्षाओं में पाठ्यपुस्तकों को पुनर्संयोजित करने की शुरुआत की है। इस प्रक्रिया में रा.शै.अ.प्र.प. द्वारा पहले से ही विकसित कक्षावार सीखने के प्रतिफलों को ध्यान में रखा गया है।

**पाठ्य सामग्रियों के पुनर्संयोजन में निम्नलिखित बिंदुओं को ध्यान में रखा गया है —**

- एक ही कक्षा में अलग-अलग विषयों के अंतर्गत समान पाठ्य सामग्री का होना;
- एक कक्षा के किसी विषय में उससे निचली कक्षा या ऊपर की कक्षा में समान पाठ्य सामग्री का होना;
- कठिनाई स्तर;
- विद्यार्थियों के लिए सहज रूप से सुलभ पाठ्य सामग्री का होना, जिसे शिक्षकों के अधिक हस्तक्षेप के बिना, वे खुद से या सहपाठियों के साथ पारस्परिक रूप से सीख सकते हों;
- वर्तमान संदर्भ में अप्रासंगिक सामग्री का होना।

वर्तमान संस्करण, ऊपर दिए गए परिवर्तनों को शामिल करते हुए तैयार किया गया पुनर्संयोजित संस्करण है।

© NCERT  
not to be republished

## पाठ्यपुस्तक निर्माण समिति

### अध्यक्ष, सामाजिक विज्ञान पाठ्यपुस्तक सलाहकार समिति

हरि वासुदेवन, प्रोफेसर, इतिहास विभाग, कलकत्ता विश्वविद्यालय, कोलकाता

### मुख्य सलाहकार

विभा पार्थसारथी, प्रिंसिपल (अवकाश प्राप्त), सरदार पटेल विद्यालय, नयी दिल्ली

### सदस्य

अनिन्दिता दत्ता, लेक्चरर, दिल्ली स्कूल ऑफ इकॉनॉमिक्स, दिल्ली विश्वविद्यालय, दिल्ली  
अपर्णा पांडेय, लेक्चरर, सामाजिक विज्ञान एवं मानविकी शिक्षा विभाग, राष्ट्रीय शैक्षिक अनुसंधान  
और प्रशिक्षण परिषद्, नयी दिल्ली

अंशु, रीडर, किरोड़ीमल कॉलेज, दिल्ली विश्वविद्यालय, दिल्ली

पुनम बिहारी, वाइस प्रिंसिपल, मिरांडा हाऊस, दिल्ली विश्वविद्यालय, दिल्ली

भगीरथी झिंगरन, टी.जी.टी., पाथवेज वर्ल्ड स्कूल, गुडगाँव

मीरा हूण, टी.जी.टी., मॉडर्न स्कूल, बाराखम्बा रोड, नयी दिल्ली

श्यामला श्रीवत्स, टी.जी.टी., सरदार पटेल विद्यालय, नयी दिल्ली

समिता दास गुप्ता, पी.जी.टी., आनंदालय, आनंद, गुजरात

श्रीनिवासन के., टी.जी.टी., माल्या अदिति इंटरनेशनल स्कूल, बंगलौर

### हिंदी अनुवाद

भावना मोहन, उत्तम नगर, नयी दिल्ली

रंजन कुमार चौधरी, पी.जी.टी., गवर्नमेंट सहशिक्षा उच्चतर माध्यमिक विद्यालय, खेड़ा डाबरा

### सदस्य-समन्वयक

तनु मलिक, लेक्चरर, सामाजिक विज्ञान एवं मानविकी शिक्षा विभाग, राष्ट्रीय शैक्षिक अनुसंधान  
और प्रशिक्षण परिषद्, नयी दिल्ली

## आभार

राष्ट्रीय शैक्षिक अनुसंधान और प्रशिक्षण परिषद्, इस पुस्तक के विकास में सहयोग देने हेतु प्रमिला कुमार, प्रोफेसर (अवकाश प्राप्त), भोपाल एवं शिप्रा नायर, दार्जिलिंग का आभार व्यक्त करती है।

परिषद्, वीर सिंह आर्य, प्रधान वैज्ञानिक अधिकारी (अवकाशप्राप्त), वैज्ञानिक एवं तकनीकी शब्दावली आयोग, मानव संसाधन विकास मंत्रालय, भारत सरकार; नरेन्द्र डबास, लेक्चरर, एस.सी.ई.आर.टी., हरियाणा; दीपावली बधवार, लेक्चरर, एस.सी.ई.आर.टी., हरियाणा; निरंजन प्रसाद शर्मा, पी.जी.टी., गवर्नमेंट बाल उच्चतर माध्यमिक विद्यालय, रेलवे कॉलोनी, तुगलकाबाद, नयी दिल्ली का भी आभार व्यक्त करती है, जिन्होंने अनुवाद के पुनरीक्षण हेतु अपना बहुमूल्य योगदान दिया।

परिषद्, सविता सिन्हा, प्रोफेसर एवं विभागाध्यक्ष, सामाजिक विज्ञान एवं मानविकी शिक्षा विभाग के प्रति भी अपनी कृतज्ञता अर्पित करती है, जिन्होंने प्रत्येक स्तर पर इस पाठ्यपुस्तक के निर्माण में अपना अमूल्य सहयोग दिया।

परिषद्, प्रस्तुत पुस्तक के निर्माण में निम्नोक्त सभी व्यक्तियों एवं संगठनों का आभार व्यक्त करती है जिन्होंने इस पाठ्यपुस्तक को सहज बनाने हेतु विभिन्न चित्र एवं अन्य पाठ्य सामग्री उपलब्ध करवाई:

अंशु, रीडर, किरोड़ीमल कॉलेज, दिल्ली विश्वविद्यालय, दिल्ली को चित्र 2.5, 2.15 एवं 3.14 के लिए; श्रीनिवासन के., टी.जी.टी., माल्या अदिति इंटरनेशनल स्कूल, बंगलुरु को पृष्ठ 27 पर मक्का की विभिन्न प्रकारों के चित्र के लिए; आस्ट्रिया से कृष्ण श्योराण को चित्र 2.1 के लिए; मोहम्मद असलम, लर्निंग टच, नयी दिल्ली को चित्र 3.4 के लिए; आर.सी. दाश, एन.सी.ई.आर.टी., नयी दिल्ली को चित्र 2.8, 2.10 एवं पृष्ठ 32 पर बाँस के झुंड के चित्रों के लिए; निमिषा कपूर को मुख्य पृष्ठ पर दिए गए पवन-चक्की, छात्रों एवं कुम्हार के चित्रों के लिए; ब्लूफ़िश को चित्र 1.1, 4.11 एवं पृष्ठ 32 पर अभ्यास पुस्तिका के चित्र के लिए; डी.एम.डी./गृह मंत्रालय को पृष्ठ 12, 35 एवं 36 पर क्रमशः प्रतिधारी दीवार, यूनियन कार्बाइड फैक्ट्री एवं गाओ क्याओ में बचाव अभियान के चित्रों के लिए; उद्योग मंत्रालय, बिहार सरकार को चित्र 3.5, 3.6, 3.13 एवं 4.1 के लिए; डायरेक्टोरेट ऑफ़ एक्सटेंशन, कृषि मंत्रालय, आई. ए.आर.आई. कैम्पस, न्यू पूसा, नई दिल्ली को चित्र 2.9, 3.9, 3.10, 3.11 एवं 3.14 के लिए; पर्यावरण एवं वन मंत्रालय, भारत सरकार को चित्र 2.11, 2.12, 2.13, 2.14, 2.16, 2.17, 2.18, 2.19 एवं पृष्ठ 18 पर गिद्ध के चित्र के लिए; सी.ओ.एम.एफ.ई.डी., पटना को चित्र 4.2 के लिए; सामाजिक विज्ञान, पाठ्यपुस्तक, कक्षा 8, भाग 2, एन.सी.ई.आर.टी., 2005 को चित्र 2.6, 2.7, 3.7, 3.8, 3.12, 3.16, 3.17, 3.18 एवं पृष्ठ 12 पर भूखलन के चित्र के लिए; द टाइम्स ऑफ़ इंडिया, हिंदुस्तान टाइम्स एवं इंडियन एक्सप्रेस को पृष्ठ 20 पर दिए गए समाचारों के लिए; एवं कौशल शर्मा, रीडर, किरोड़ीमल कॉलेज, दिल्ली विश्वविद्यालय, दिल्ली को पृष्ठ 12 पर दिए गए भूखलन के वस्तुस्थिति अध्ययन के लिए।

परिषद् पाठ्यपुस्तक के निर्माण में उल्लेखनीय सहयोग देने हेतु उत्तम कुमार, अनिल शर्मा, मुकद्दस आजम, डी.टी.पी. ऑपरेटर; सतीश झा, कॉपी एडिटर; अचल कुमार, प्रूफ रीडर तथा दिनेश कुमार, कंप्यूटर स्टेशन इंचार्ज का भी हार्दिक आभार व्यक्त करती है। इसी संदर्भ में प्रकाशन विभाग, एन.सी.ई.आर.टी. का सहयोग भी प्रशंसनीय है।



## विषय सूची

आमुख	iii
पाठ्यपुस्तकों में पाठ्य सामग्री का पुनर्संयोजन	v
<b>अध्याय 1</b>	<b>1-6</b>
संसाधन	
<b>अध्याय 2</b>	<b>7-21</b>
भूमि, मृदा, जल, प्राकृतिक वनस्पति और वन्य जीवन संसाधन	
<b>अध्याय 3</b>	<b>22-31</b>
कृषि	
<b>अध्याय 4</b>	<b>32-43</b>
उद्योग	
<b>अध्याय 5</b>	<b>44-54</b>
मानव संसाधन	

# भारत का संविधान

## उद्देशिका


हम, भारत के लोग, भारत को एक <sup>1</sup>[संपूर्ण प्रभुत्व-संपन्न समाजवादी पंथनिरपेक्ष लोकतंत्रात्मक गणराज्य] बनाने के लिए, तथा उसके समस्त नागरिकों को :

सामाजिक, आर्थिक और राजनैतिक न्याय,  
विचार, अभिव्यक्ति, विश्वास, धर्म  
और उपासना की स्वतंत्रता,  
प्रतिष्ठा और अवसर की समता  
प्राप्त कराने के लिए,  
तथा उन सब में

व्यक्ति की गरिमा और <sup>2</sup>[राष्ट्र की एकता  
और अखंडता] सुनिश्चित करने वाली बंधुता  
बढ़ाने के लिए

दृढसंकल्प होकर अपनी इस संविधान सभा में आज तारीख  
26 नवंबर, 1949 ई. को एतद्वारा इस संविधान को  
अंगीकृत, अधिनियमित और आत्मार्पित करते हैं।

1. संविधान (बयालीसवां संशोधन) अधिनियम, 1976 की धारा 2 द्वारा (3.1.1977 से) "प्रभुत्व-संपन्न लोकतंत्रात्मक गणराज्य" के स्थान पर प्रतिस्थापित।
2. संविधान (बयालीसवां संशोधन) अधिनियम, 1976 की धारा 2 द्वारा (3.1.1977 से) "राष्ट्र की एकता" के स्थान पर प्रतिस्थापित।



0859CH01

## संसाधन

मोना और राजू अपना घर साफ़ करने में अम्मा की मदद कर रहे थे। “इन सभी चीज़ों को देखो... कपड़े, बर्तन, अनाज, कंघा, शहद की बोतल, किताबें... इनमें से प्रत्येक उपयोगी है,” मोना ने कहा। “इसलिए ये महत्वपूर्ण हैं,” अम्मा ने कहा। “ये संसाधन हैं।” “संसाधन क्या है?” अम्मा से राजू ने प्रश्न पूछा। अम्मा ने बताया, “प्रत्येक वस्तु जिसका उपयोग आवश्यकताओं को पूरा करने के लिए किया जा सकता है, वह संसाधन है।”

“अपने चारों ओर देखिए और निरीक्षण कीजिए, आप संसाधनों के विविध प्रकारों को पहचानने में सक्षम होंगे। आप प्यास लगने पर जो जल पीते हैं, आप अपने घर में जिस विद्युत का उपयोग करते हैं, स्कूल से घर पहुँचने के लिए उपयोग किया गया रिक्शा, पाठ्यपुस्तक जिसका उपयोग आप अध्ययन के लिए करते हैं, ये सभी संसाधन हैं। आपके पिता ने आपके लिए नाश्ता तैयार किया है। उन्होंने जिन ताज़ी सब्जियों का उपयोग किया है, वे भी एक संसाधन हैं।”

जल, विद्युत, रिक्शा, सब्जियाँ और पाठ्यपुस्तक सभी में कुछ एक जैसा क्या है? उनमें से सभी वस्तुओं का उपयोग आपके द्वारा किया गया है। इसीलिए वे **उपयोगी** हैं। एक वस्तु अथवा पदार्थ की उपयोगिता अथवा **प्रयोज्यता** उसे एक संसाधन बनाती है।

राजू अब जानना चाहता था कि, “कोई भी वस्तु संसाधन कैसे बनती है?” अम्मा ने बच्चों को बताया वस्तुएँ उस समय संसाधन बनती हैं जब उनका कोई मूल्य होता है। “इसका प्रयोग अथवा उपयोगिता इसे मूल्य प्रदान करते हैं। सभी संसाधन **मूल्यवान** होते हैं।” अम्मा ने कहा।

**मूल्य** का अर्थ महत्त्व होता है। कुछ संसाधनों का आर्थिक मूल्य होता है जबकि कुछ संसाधनों का आर्थिक मूल्य नहीं होता है। उदाहरणार्थ धातुओं का आर्थिक मूल्य होता है लेकिन एक मनोरम भूदृश्य का आर्थिक मूल्य नहीं होता है। परन्तु ये दोनों संसाधन महत्वपूर्ण हैं और मनुष्य की आवश्यकताओं को पूरा करते हैं।

कुछ संसाधन समय के साथ आर्थिक रूप से मूल्यवान हो सकते हैं। आपकी दादी के घरेलू नुस्खों का आज कोई वाणिज्यिक मूल्य नहीं है। लेकिन यदि वे **पेटेन्ट** करने के उपरांत मेडिकल फर्म द्वारा बेचे जाते हैं, तब वे आर्थिक रूप से मूल्यवान हो सकते हैं।

### आओ कुछ करके सीखें

अपने घर और अपनी कक्षा में उपयोग किए जाने वाले किन्हीं पाँच संसाधनों की सूची बनाइए।

### शब्दावली

#### पेटेन्ट

इसका तात्पर्य किसी विचार अथवा आविष्कार पर एकमात्र अधिकार से है।

## शब्दावली

प्रौद्योगिकी : किसी कौशल करने अथवा वस्तु बनाने में नवीनतम ज्ञान का अनुप्रयोग प्रौद्योगिकी है।

## क्रियाकलाप

अम्मा की सूची से उन संसाधनों पर गोला बनाइए जिनका अभी वाणिज्यिक मूल्य नहीं है।



### अम्मा की सूची

सूती वस्त्र

लौह-अयस्क

बुद्धि

औषधीय पौधे

चिकित्सा ज्ञान

कोयला निक्षेप

मनोरम दृश्य

कृषि भूमि

शुद्ध पर्यावरण

लोक गीत

सुहावना मौसम

संसाधन परिपूर्णता

एक अच्छी संगीत ध्वनि

दादी माँ के घरेलू नुस्खे

मित्रों एवं परिवारों से स्नेह

समय और प्रौद्योगिकी दो महत्वपूर्ण कारक हैं जो पदार्थों को संसाधन में परिवर्तित कर सकते हैं। दोनों लोगों की आवश्यकताओं से संबंधित हैं। लोग स्वयं ही सबसे महत्वपूर्ण संसाधन हैं। ये लोगों के विचार, ज्ञान, आविष्कार और खोज ही हैं जो और अधिक संसाधनों की रचना करते हैं। प्रत्येक खोज अथवा आविष्कार से बहुत से अन्य खोज एवं आविष्कार होते हैं। आग की खोज से खाना पकाने की पद्धति एवं अन्य प्रक्रियाओं का प्रचलन हुआ जबकि पहिए के आविष्कार से अन्ततः परिवहन की नवीनतम विधियों का विकास हुआ। जलविद्युत बनाने की प्रौद्योगिकी ने तेजी से बहते जल से ऊर्जा उत्पन्न करके, उसे एक महत्वपूर्ण संसाधन बना दिया है।

“इसलिए मैं भी एक संसाधन हूँ”

“एक बहुत महत्वपूर्ण संसाधन”



## संसाधनों के प्रकार

सामान्यतः संसाधनों को प्राकृतिक, मानव निर्मित और मानव में वर्गीकृत किया गया है।

### प्राकृतिक संसाधन

जो संसाधन प्रकृति से प्राप्त होते हैं और अधिक संशोधन के बिना उपयोग में लाए जाते हैं, प्राकृतिक संसाधन कहलाते हैं। वायु, जिसमें हम साँस लेते हैं, हमारी नदियों और झीलों का जल, मृदा और खनिज, सभी प्राकृतिक संसाधन हैं। इन संसाधनों में से बहुत से प्रकृति के निःशुल्क उपहार हैं और सीधे ही उपयोग में लाए जा सकते हैं। कुछ परिस्थितियों में, प्राकृतिक संसाधन का सबसे अच्छी तरह उपयोग करने के लिए औजारों और प्रौद्योगिकी की आवश्यकता हो सकती है।

प्राकृतिक संसाधनों को विस्तृत रूप से नवीकरणीय और अनवीकरणीय संसाधनों में विभाजित किया जा सकता है।

नवीकरणीय संसाधन वे संसाधन हैं जो शीघ्रता से नवीकृत अथवा पुनः पूरित हो जाते हैं। इनमें से कुछ असीमित हैं और उन पर मानवीय क्रियाओं का प्रभाव नहीं होता, जैसे सौर और पवन ऊर्जा। लेकिन फिर भी कुछ नवीकरणीय संसाधनों, जैसे जल, मृदा और वन का लापरवाही से किया गया उपयोग उनके भंडार को प्रभावित कर सकता है। जल असीमित नवीकरणीय संसाधन प्रतीत होता है। फिर भी जल की कमी और प्राकृतिक जल स्रोतों का सूखना आज विश्व के बहुत से भागों में एक बड़ी समस्या है।

अनवीकरणीय संसाधन वे संसाधन हैं जिनका भंडार सीमित है। भंडार के एक बार समाप्त होने के बाद उनके नवीकृत अथवा पुनः पूरित होने में हजारों वर्ष लग सकते हैं। यह अवधि मानव जीवन की अवधि से बहुत अधिक है,

इस प्रकार के संसाधन अनवीकरणीय कहलाते हैं। कोयला, पेट्रोलियम तथा प्राकृतिक गैस इसके कुछ उदाहरण हैं।

प्राकृतिक संसाधनों का वितरण भूभाग, जलवायु, ऊँचाई जैसे अनेक भौतिक कारकों पर निर्भर करता है। पृथ्वी पर इन कारकों में विभिन्नता होने के कारण संसाधनों का वितरण असमान है।

### मानव निर्मित संसाधन

कभी-कभी प्राकृतिक पदार्थ तब संसाधन बन जाते हैं जब उनका मूल रूप बदल दिया जाता है। लौह-अयस्क उस समय तक संसाधन नहीं था जब तक लोगों ने उससे लोहा बनाना नहीं सीखा था। लोग प्राकृतिक संसाधनों का उपयोग पुल, सड़क, मशीन और वाहन बनाने में करते हैं जो मानव निर्मित संसाधन के नाम से जाने जाते हैं। प्रौद्योगिकी भी एक मानव निर्मित संसाधन है।

“इसीलिए हम जैसे लोग प्राकृतिक संसाधनों का उपयोग करके मानव निर्मित संसाधन बनाते हैं”, मोना ने समझाते हुए कहा। “हाँ” राजू ने स्वीकृति में सिर हिलाया।

### मानव संसाधन

लोग और अधिक संसाधन बनाने के लिए प्रकृति का सबसे अच्छा उपयोग तभी कर सकते हैं जब उनके पास ऐसा करने का ज्ञान, कौशल तथा

“सूखे के कारण फसलों का विनाश।”  
“क्या मैं इसका समाधान निकाल सकती हूँ?”



हाँ, क्यों नहीं?”



“यह सब ज्ञान, शिक्षा और कौशल के कारण सम्भव हुआ... कि हम इसका समाधान निकाल पाएँ।”



**पढ़ें एवं मनन करें:** मनुष्य एक-दूसरे पर निर्भर हैं। किसान सभी के लिए अन्न उपजाते हैं। वैज्ञानिक कृषि से जुड़ी विभिन्न समस्याओं और अन्न उत्पादन बढ़ाने के उपाय खोजते हैं।

### शब्दावली

संसाधन का भंडार यह उपयोग के लिए संसाधन की उपलब्ध मात्रा है।

### आओ कुछ करके सीखें

कुछ नवीकरणीय संसाधनों के बारे में सोचिए और बताइए कि किस प्रकार संसाधनों का अधिक उपयोग उनके भंडार को प्रभावित करता है।

### आओ कुछ करके सीखें

पाँच मानव निर्मित संसाधनों की सूची बनाइए जिन्हें आप अपने चारों ओर देख सकते हैं।

### क्या आप जानते हैं?

मानव संसाधन से तात्पर्य लोगों की संख्या और योग्यता (मानसिक तथा शारीरिक) से है। यद्यपि मानव को संसाधन मानने के संदर्भ में लोगों में मतभेद है। इतना होते हुए भी इस तथ्य से इंकार नहीं किया जा सकता कि मूलतः मनुष्य की कुशलताएँ ही भौतिक पदार्थों को मूल्यवान संसाधन बनाने में सहायता करती हैं।



प्रौद्योगिकी उपलब्ध हो। इसलिए मनुष्य एक विशिष्ट प्रकार का संसाधन है। अतः, लोग मानव संसाधन हैं। शिक्षा और स्वास्थ्य, लोगों को बहुमूल्य संसाधन बनाने में मदद करते हैं। अधिक संसाधनों के निर्माण में समर्थ होने के लिए लोगों के कौशल में सुधार करना मानव संसाधन विकास कहलाता है।

### संसाधन संरक्षण

मोना ने एक बुरा स्वप्न देखा। उसने देखा कि पृथ्वी पर सारा जल सूख गया है और सारे पेड़ कट गए हैं। वहाँ पर न तो छाया ही थी और न कुछ खाने-पीने के लिए था। लोग परेशान हो रहे थे और चारों तरफ भोजन और छाया की तलाश में निराश घूम रहे थे।

उसने अपनी माँ को सपने के बारे में बताया। उसने पूछा, “अम्मा क्या यह सच में हो सकता है?”

“हाँ,” अम्मा ने उत्तर दिया। “यदि हम नवीकरणीय संसाधनों के प्रति सतर्क नहीं रहते हैं तो वे बहुत ही दुर्लभ हो सकते हैं और अनवीकरणीय संसाधन निश्चय ही समाप्त हो सकते हैं।” राजू ने पूछा, “हम इसके लिए क्या कर सकते हैं?” “बहुत कुछ,” अम्मा ने उत्तर दिया, “आप अपने दोस्तों से बात क्यों नहीं करते?”

संसाधनों का सतर्कतापूर्वक उपयोग करना और उन्हें नवीकरण के लिए समय देना, संसाधन संरक्षण कहलाता है। संसाधनों का उपयोग करने की आवश्यकता और भविष्य के लिए उनके संरक्षण में संतुलन बनाए रखना, सततपोषणीय विकास कहलाता है। संसाधनों के संरक्षण के अनेक तरीके हैं।

प्रत्येक व्यक्ति उपभोग को कम करके वस्तुओं के पुनःचक्रण और पुनः उपयोग द्वारा योगदान दे सकता है। अन्ततः यह एक विभिन्नता बनाता है क्योंकि सभी जीवन एक-दूसरे से जुड़े हैं।

उस शाम बच्चों और उनके मित्रों ने पुराने समाचारपत्रों, व्यर्थ वस्त्रों तथा बाँस की डण्डियों से लिफाफे और खरीददारी के लिए थैले बनाए। मोना ने कहा, “हम इन वस्तुओं में से कुछ वस्तुएँ उन परिवारों को देंगे जिन्हें हम जानते हैं।” मुस्तफा ने कहा, “अपने संसाधनों को बचाना और अपनी पृथ्वी को सजीव रखना यह एक बहुत अच्छा कार्य है।”

जेस्सी ने कहा, “मैं बहुत ही सतर्क रहूँगी कि कागज़ व्यर्थ न हो।” उसने स्पष्ट किया, “कागज़ बनाने के लिए बहुत से पेड़ों को काट दिया जाता है।”

### शब्दावली

सततपोषणीय विकास संसाधनों का सावधानीपूर्वक उपयोग ताकि न केवल वर्तमान पीढ़ी की अपितु भावी पीढ़ियों की आवश्यकताएँ भी पूरी होती रहें।



4 संसाधन एवं विकास

“मैं ध्यान रखूँगा कि मेरे घर में विद्युत व्यर्थ न हो,” मुस्ताफ़ा ने जोर से कहा, “विद्युत जल और कोयले से मिलती है।” “मैं विश्वास दिलाती हूँ कि घर में जल बेकार नहीं होगा। जल की एक-एक बूँद मूल्यवान है,” आशा ने कहा। बच्चों ने कहा “हम सब मिलकर अन्तर ला सकते हैं।”

यह कुछ कार्य मोना, राजू और उनके मित्रों ने किए हैं। आपका क्या विचार है? आप संसाधन संरक्षण में कैसे मदद करने जा रहे हैं?

हमारी पृथ्वी और इस पर निवास करने वाले लोगों का भविष्य पेड़-पौधों और परितंत्र की सुरक्षा और संरक्षण से जुड़ा है।

अब यह सुनिश्चित करना हमारा कर्तव्य हो जाता है कि-

- सभी नवीकरणीय संसाधनों के उपयोग सततपोषणीय हैं।
- पृथ्वी पर जीवन की विविधता संरक्षित की जाए।
- प्राकृतिक पर्यावरणीय तंत्र की हानि को कम-से-कम किया जाए।

#### सततपोषणीय विकास के कुछ सिद्धांत

- जीवन के सभी रूपों का आदर और देखभाल।
- मानव जीवन की गुणवत्ता को बढ़ाना।
- पृथ्वी की जीवन शक्ति और विविधता का संरक्षण करना।
- प्राकृतिक संसाधनों के हास को कम-से-कम करना।
- पर्यावरण के प्रति व्यक्तिगत व्यवहार और अभ्यास में परिवर्तन।
- समुदायों को अपने पर्यावरण की देखभाल करने योग्य बनाना।



#### अभ्यास

##### 1. निम्नलिखित प्रश्नों के उत्तर दीजिए -

- पृथ्वी पर संसाधन असमान रूप से क्यों वितरित हैं?
- संसाधन संरक्षण क्या है?
- मानव संसाधन महत्त्वपूर्ण क्यों हैं?
- सततपोषणीय विकास क्या है?

##### 2. सही उत्तर पर निशान लगाइए -

- निम्नलिखित में से कौन संसाधन को निर्धारित नहीं करता?
  - उपयोगिता
  - मूल्य
  - मात्रा
- निम्नलिखित में से कौन-सा मानव निर्मित संसाधन है?
  - कैंसर उपचार की औषधियाँ
  - झरने का जल
  - उष्णकटिबंधीय वन
- कथन पूरा कीजिए-  
अनवीकरणीय संसाधन ..... होते हैं।
  - सीमित भंडार वाले
  - मनुष्यों द्वारा निर्मित
  - निर्जीव वस्तुओं से व्युत्पन्न

##### 3. क्रियाकलाप -


“रहिमन पानी रखिए बिनु पानी सब सूना।  
पानी गए न ऊबरे मोती, मानुस, चून...”




ये पंक्तियाँ अकबर के दरबार के नौ रत्नों में से एक, कवि अब्दुर रहीम खानखाना द्वारा लिखी गई थीं। कवि किस प्रकार के संसाधन की ओर संकेत कर रहा है? इस संसाधन के समाप्त हो जाने पर क्या होगा? इसे 100 शब्दों में लिखिए।

### आओ खेलें –

1. सोचिए कि आप प्रागैतिहासिक काल में एक ऊँचे हवादार पठार पर रहते हैं। आप और आपके मित्र तेज पवनों का उपयोग कैसे करेंगे? क्या आप पवन को एक संसाधन कह सकते हैं? अब कल्पना कीजिए कि आप वर्ष 2138 में उसी स्थान पर रह रहे हैं। क्या आप पवनों का कोई उपयोग कर सकते हैं? कैसे? क्या आप बता सकते हैं कि अब पवन एक महत्वपूर्ण संसाधन क्यों है?
2. एक पत्थर, एक पत्ता, एक गत्ता और एक टहनी लीजिए। सोचिए कि आप इनका उपयोग संसाधन की भाँति किस प्रकार कर सकते हैं? नीचे दिए उदाहरण को देखिए और रचना कीजिए।

आप एक पत्थर का उपयोग कर सकते हैं...		प्रयोग/उपयोगिता
स्टापू खेलने के लिए		खिलौना
पेपरवेट की भाँति		उपकरण
मसाले पीसने के लिए		उपकरण
अपने बगीचे/कमरे को सजाने के लिए		सजावट का सामान
बोतल को खोलने के लिए		उपकरण
गुलेल में		शस्त्र

आप एक पत्ती का उपयोग कर सकते हैं...		प्रयोग/उपयोगिता







0859CH02

## भूमि, मृदा, जल, प्राकृतिक वनस्पति और वन्य जीवन संसाधन

तंजानिया (अफ्रीका) के एक छोटे गाँव में, माम्बा पानी लाने के लिए प्रातः शीघ्र उठती है। उसे बहुत दूर जाना पड़ता है और वह कुछ घंटों के बाद लौटती है। इसके उपरांत वह घर के कार्यों में अपनी माँ का हाथ बँटाती है और अपने भाइयों की बकरियों की देखभाल में मदद करती है। उसके पूरे परिवार के पास उनकी छोटी झोंपड़ी के चारों ओर चट्टानी भूमि का एक भाग है। माम्बा के पिता कठिन परिश्रम के बाद मात्र कुछ मक्का और सेम ही उगा सकते हैं। फिर भी यह उनके परिवार के साल भर के खाने के लिए पर्याप्त नहीं है।

पीटर न्यूजीलैंड के भेड़ पालन प्रदेश के मध्यवर्ती भाग में रहता है जहाँ उसका परिवार ऊन प्रक्रमण करने का कारखाना चलाता है। प्रतिदिन जब पीटर स्कूल से लौटता है, वह अपने चाचा को अपनी भेड़ों की देखभाल करते हुए देखता है। उनका भेड़ों का बाड़ा कुछ दूरी पर पहाड़ियों से लगे हुए एक विस्तृत घास के मैदान पर स्थित है। वहाँ नवीनतम प्रौद्योगिकी का उपयोग करते हुए एक वैज्ञानिक विधि से इसका प्रबंध किया जाता है। पीटर का परिवार जैविक कृषि द्वारा सब्जियाँ भी उगाता है।

माम्बा और पीटर विश्व के दो विभिन्न स्थानों में रहते हैं और उनके जीवन व्यतीत करने में बहुत अंतर है। यह विभिन्नता भूमि की गुणवत्ता, मृदा, जल, प्राकृतिक वनस्पति, प्राणियों और प्रौद्योगिकी के उपयोग की भिन्नता के कारण है। इन स्थानों का एक-दूसरे से भिन्न होने का मुख्य कारण इस प्रकार के संसाधनों की उपलब्धता है।

### आओ कुछ करके सीखें

जिस प्रदेश में आप रहते हैं, उस प्रदेश में भूमि, मृदा के प्रकार तथा जल उपलब्धता का प्रेक्षण करें। अपनी कक्षा में परिचर्चा करें कि किस प्रकार लोगों की जीवन शैली इन के द्वारा प्रभावित हुई है।

### क्या आप जानते हैं?

विश्व की 90 प्रतिशत जनसंख्या भूमि क्षेत्र के 30 प्रतिशत भाग पर ही रहती है। शेष 70 प्रतिशत भूमि पर या तो विरल जनसंख्या है या वह निर्जन है।



चित्र 2.1: ऑस्ट्रिया में साल्ज़बर्ग

इस चित्र में आप भूमि के कितने उपयोग पहचान सकते हैं?

## भूमि

सभी महत्वपूर्ण प्राकृतिक संसाधनों में भूमि भी शामिल है। भूपृष्ठ के कुल क्षेत्रफल का लगभग 30 प्रतिशत भाग भूमि है। यही नहीं इस थोड़े से प्रतिशत के भी सभी भाग आवास योग्य नहीं हैं।

मुख्यतः भूमि और जलवायु के भिन्न-भिन्न लक्षणों के कारण विश्व के विभिन्न भागों में जनसंख्या का वितरण असमान पाया जाता है। ऊबड़-खाबड़ स्थलाकृति, पर्वतों के तीव्र ढाल, जलाक्रांत संभावित निम्न क्षेत्र, मरुस्थल क्षेत्र एवं

सघन वन क्षेत्र सामान्यतः विरल अथवा निर्जन हैं। उर्वर मैदानों और नदी घाटियों में कृषि के लिए उपयुक्त भूमि उपलब्ध है। इसलिए, ये स्थान विश्व के सघन बसे क्षेत्र हैं।

## भूमि उपयोग

भूमि का उपयोग विभिन्न कार्यों के लिए किया जाता है, जैसे कृषि, वानिकी, खनन, सड़कों और उद्योगों की स्थापना। साधारणतः इसे **भूमि उपयोग** कहते हैं। क्या आप माम्बा और पीटर के परिवारों के भूमि उपयोग के विभिन्न तरीकों की सूची बना सकते हैं?

भूमि का उपयोग भौतिक कारकों द्वारा निर्धारित किया जाता है, जैसे स्थलाकृति, मृदा, जलवायु, खनिज और जल की उपलब्धता। मानवीय कारक जैसे जनसंख्या और प्रौद्योगिकी भी भूमि उपयोग प्रतिरूप के महत्वपूर्ण निर्धारक हैं।

स्वामित्व के आधार पर भूमि को निजी भूमि और सामुदायिक भूमि में बाँटा जा सकता है। निजी भूमि व्यक्तियों के स्वामित्व में होती है जबकि सामुदायिक भूमि समुदाय के स्वामित्व में होती है। सामान्य रूप से इसका उपयोग समुदाय से संबंधित व्यक्तियों के लिए किया जाता है, जैसे चारा, फलों, नट या औषधीय बूटियों को एकत्रित करना। इस सामुदायिक भूमि को **साझा संपत्ति संसाधन** भी कहते हैं।

जनसंख्या और उनकी माँग सदैव बढ़ती रहती है लेकिन भूमि की उपलब्धता सीमित है। स्थान के अनुसार भूमि की गुणवत्ता में अन्तर होता है। लोगों ने सामुदायिक भूमि पर व्यापारिक क्षेत्र बनाने, नगरीय क्षेत्रों में घर बनाने और ग्रामीण क्षेत्रों में कृषि योग्य भूमि का विस्तार करने के लिए अनाधिकृत हस्तक्षेप करना शुरू कर दिया है। आज भूमि उपयोग

### आओ कुछ करके सीखें

अपने घर/पड़ोस में कुछ बुजुर्ग व्यक्तियों से बात करें और पिछले कुछ वर्षों में हुए भूमि उपयोग परिवर्तन के विषय में सूचना एकत्रित कीजिए। प्राप्त जानकारी को अपनी कक्षा के सूचनापट्ट पर प्रदर्शित कीजिए।

प्रतिरूप में व्यापक परिवर्तन हमारे समाज में सांस्कृतिक परिवर्तनों को दर्शाते हैं। वर्तमान में कृषि और निर्माण सम्बन्धी गतिविधियों के प्रसार के कारण निम्नीकरण, भूस्खलन, मृदा अपरदन, मरुस्थलीकरण पर्यावरण के लिए प्रमुख खतरा है।



चित्र 2.2: भूमि उपयोग में समय के अनुसार परिवर्तन

### भूमि संसाधन का संरक्षण

बढ़ती जनसंख्या तथा इसकी बढ़ती माँगों के कारण वन भूमि और कृषि योग्य भूमि का बड़े पैमाने पर विनाश हुआ है। इससे इस प्राकृतिक संसाधन के समाप्त होने का डर पैदा हो गया है। इसीलिए विनाश की वर्तमान दर को अवश्य ही रोकना चाहिए। वनरोपण, भूमि उद्धार, रासायनिक कीटनाशकों और उर्वरकों के विनियमित उपयोग तथा अतिचारण पर रोक आदि भूमि संरक्षण के लिए प्रयुक्त कुछ सामान्य तरीके हैं।

### मृदा

पृथ्वी के पृष्ठ पर दानेदार कणों के आवरण की पतली परत मृदा कहलाती है। यह भूमि से निकटता से जुड़ी हुई है। स्थल रूप मृदा के प्रकार को निर्धारित करते हैं। मृदा का निर्माण चट्टानों से प्राप्त खनिजों और जैव पदार्थ

भूमि, मृदा, जल, प्राकृतिक वनस्पति और वन्य जीवन संसाधन 9



## भूस्खलन

भूस्खलन को सामान्य रूप से शैल, मलबा या ढाल से गिरने वाली मिट्टी के बृहत संचलन के रूप में परिभाषित किया जाता है। वे प्रायः भूकंप, बाढ़ और ज्वालामुखी के साथ घटित होते हैं। लंबे समय तक भारी वर्षा होने से भूस्खलन होता है। यह नदी के प्रवाह को कुछ समय के लिए अवरुद्ध कर देता है। नदी अवरुद्धता के अचानक फूट पड़ने से निचली घाटियों के आवासों में विध्वंस आ जाता है। पहाड़ी भू-भाग में, भूस्खलन एक मुख्य और विस्तृत रूप से फैली प्राकृतिक आपदा है जो प्रायः जीवन और संपत्ति को आघात पहुँचाती है और चिंता का एक मुख्य विषय है।



भूस्खलन

### एक वस्तुस्थिति अध्ययन

हिमाचल प्रदेश के किन्नौर जिले में रेकांग पीओ के निकट पंजी गाँव में बड़े भूस्खलन के कारण राष्ट्रीय महामार्ग-22 की पुरानी हिंदुस्तान-तिब्बत सड़क का 200 मीटर तक का भाग नष्ट हो गया। यह भूस्खलन पंजी गाँव में तीव्र विस्फोटन द्वारा हुआ था। विस्फोटन के कारण ढाल का यह कमजोर क्षेत्र नीचे गिर गया, जिसके कारण सड़क और गाँव के आस-पास के क्षेत्र को क्षति पहुँची। पंजी गाँव को किसी संभावित मानव विनाश से बचाने के लिए पूर्ण रूप से खाली करा दिया गया था।


### न्यूनीकरण क्रियाविधि

वैज्ञानिक प्रविधियों के विकास से हमें समझने की शक्ति मिली है कि भूस्खलन उत्पन्न होने के कौन-कौन से कारक हैं और उनका प्रबन्धन कैसे करना है। भूस्खलन को रोकने की कुछ प्रविधियाँ निम्न हैं:

- भूस्खलन प्रभावी क्षेत्रों का मानचित्र बनाकर इसमें प्रभावित होने वाले स्थानों को इंगित करना। इस प्रकार इन क्षेत्रों को आवास बनाने के लिए छोड़ा जा सकता है।
- भूमि को खिसकने से बचाने के लिए प्रतिधारी दीवार का निर्माण।
- भूस्खलन को रोकने का सबसे प्रभावी तरीका वनस्पति आवरण में वृद्धि है।
- सतही अपवाह तथा झरना प्रवाहों के साथ-साथ भूस्खलन की गतिशीलता को नियंत्रित करने के लिए पृष्ठीय अपवाह नियंत्रण उपाय कार्यान्वित किए गए हैं।



प्रतिधारी दीवार



चित्र 2.3: मृदा परिच्छेदिका

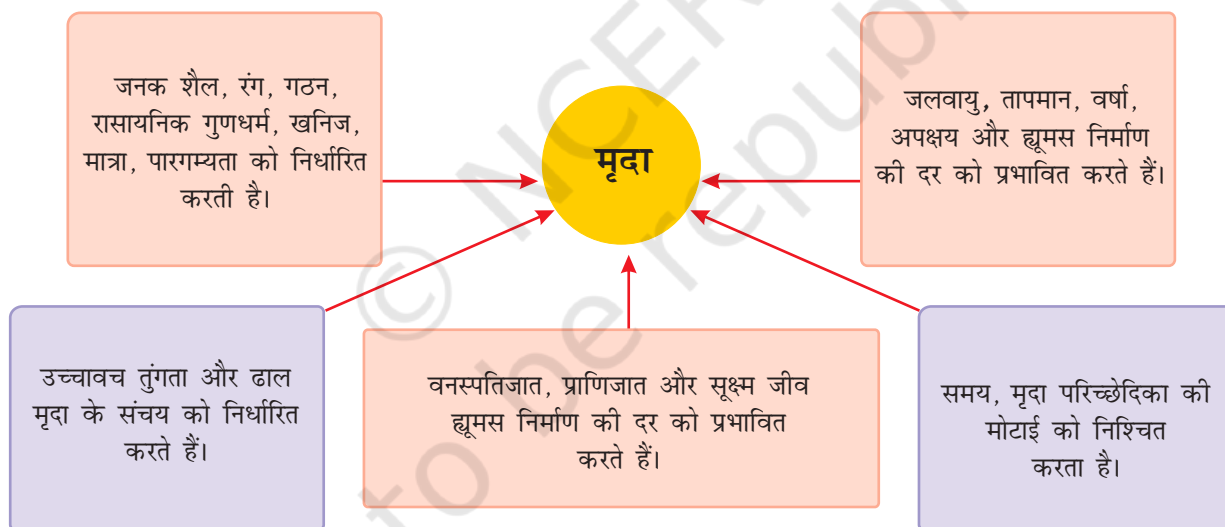
तथा भूमि पर पाए जाने वाले खनिजों से होता है। यह अपक्षय की प्रक्रिया के माध्यम से बनती है। खनिजों और जैव पदार्थों का सही मिश्रण मृदा को उपजाऊ बनाता है।

**शब्दावली**

**अपक्षय**  
तापमान परिवर्तन, तुषार क्रिया, पौधों, प्राणियों और मनुष्य के क्रियाकलाप द्वारा अनावरित शैलों का टूटना और क्षय होना।

**क्या आप जानते हैं?**

केवल एक सेंटीमीटर मृदा को बनने में सैकड़ों वर्ष लग जाते हैं।



चित्र 2.4: मृदा निर्माण को प्रभावित करने वाले कारक





### क्रियाकलाप

भारत में जलोढ़, काली, लाल, लैटराइट, मरुस्थलीय और पर्वतीय प्रकार की मृदाएँ हो सकती हैं। विभिन्न प्रकार की मृदाओं की एक-एक मुट्ठी एकत्रित कीजिए और निरीक्षण कीजिए। वे किस प्रकार एक-दूसरे से भिन्न हैं?

## मृदा निर्माण के कारक

मृदा निर्माण के मुख्य कारक जनक शैल का स्वरूप और जलवायविक कारक हैं। मृदा निर्माण के अन्य कारक स्थलाकृति, जैव पदार्थों की भूमिका और मृदा निर्माण के संघटन में लगा समय है। अलग-अलग स्थानों में ये भिन्न-भिन्न हैं।

## मृदा का निम्नीकरण और संरक्षण के उपाय

मृदा अपरदन और क्षीणता मृदा संसाधन के लिए दो मुख्य खतरे हैं। मानवीय और प्राकृतिक दोनों ही कारकों से मृदाओं का निम्नीकरण हो सकता है। मृदा के निम्नीकरण में सहायक कारक वनोन्मूलन, अतिचारण, रासायनिक उर्वरकों और कीटनाशकों का अत्यधिक उपयोग, वर्षा दोहन, भूस्खलन और बाढ़ हैं। मृदा संरक्षण की कुछ विधियाँ निम्न प्रकार हैं:

**मल्ल बनाना :** पौधों के बीच अनावरित भूमि जैव पदार्थ जैसे घास फूस से ढक दी जाती है। इससे मृदा की आर्द्रता रुकी रहती है।



चित्र 2.5: वेदिका फार्म



चित्र 2.6: समोच्चरेखीय जुताई



चित्र 2.7: रक्षक मेखला

**वेदिका फार्म :** चौड़े, समतल सोपान अथवा वेदिका तीव्र ढालों पर बनाए जाते हैं ताकि सपाट सतह फसल उगाने के लिए उपलब्ध हो जाए। इनसे पृष्ठीय प्रवाह और मृदा अपरदन कम होता है (चित्र 2.5)।

**समोच्चरेखीय जुताई :** एक पहाड़ी ढाल पर समोच्च रेखाओं के सामान्तर जुताई ढाल से नीचे बहते जल के लिए एक प्राकृतिक अवरोध का निर्माण करती है (चित्र : 2.6)।

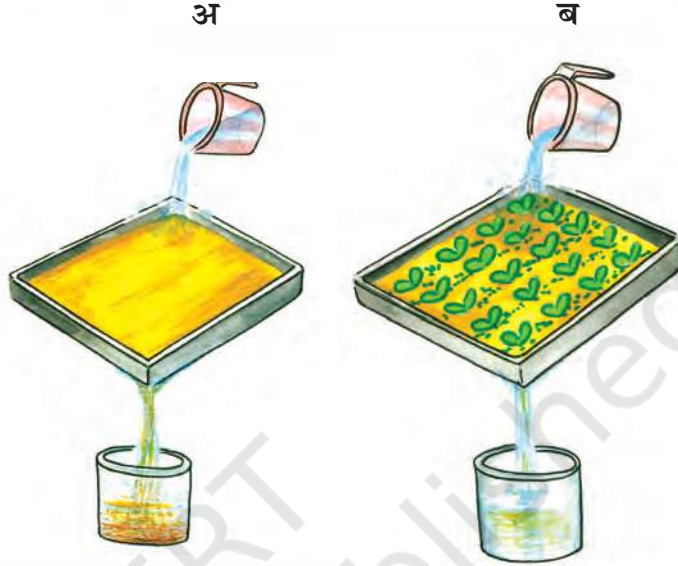
**रक्षक मेखलाएँ :** तटीय प्रदेशों और शुष्क प्रदेशों में पवन गति रोकने के लिए वृक्ष कतारों में लगाए जाते हैं ताकि मृदा आवरण को बचाया जा सके (चित्र 2.7)।



**समोच्चरेखीय रोधिकाएँ :** समोच्चरेखाओं पर रोधिकाएँ बनाने के लिए पत्थरों, घास, मृदा का उपयोग किया जाता है। रोधिकाओं के सामने जल एकत्र करने के लिए खाइयाँ बनाई जाती हैं।

### क्रियाकलाप

एक ही आकार की **अ** और **ब** दो ट्रे लीजिए। इन ट्रे के अंत में छः छेद बनाइए और इन्हें बराबर मात्रा में मृदा से भरिए। **अ** ट्रे की मृदा को खाली छोड़ दीजिए जबकि **ब** ट्रे में गेहूँ अथवा चावल के दाने लगाइए। बाद में **ब** ट्रे के दाने उगकर कुछ ऊँचे हो जाते हैं। अब दोनों ट्रे को ऐसे रखिए कि वे एक ढाल पर हों। दोनों ट्रे में बराबर ऊँचाई से, एक ओर से मग से जल डालते हैं। दोनों ट्रे के छिद्रों से निकलने वाले पंकिल जल को दो अलग-अलग डिब्बों में एकत्रित करें और तुलना करें कि प्रत्येक ट्रे से कितनी मृदा बह गई है।



**चट्टान बाँध :** यह जल के प्रवाह को कम करने के लिए बनाए जाते हैं। यह नालियों की रक्षा करते हैं और मृदा क्षति को रोकते हैं।

**बीच की फसल उगाना :** वर्षा दोहन से मृदा को सुरक्षित रखने के लिए अलग-अलग समय पर भिन्न-भिन्न फसलें एकांतर कतारों में उगाई जाती हैं।

### जल


जल एक महत्वपूर्ण नवीकरणीय प्राकृतिक संसाधन है, भूपृष्ठ का तीन-चौथाई भाग जल से ढका है। इसीलिए इसे 'जल ग्रह' कहना उपयुक्त है। लगभग 3.5 अरब वर्ष पहले जीवन, आदि महासागरों में ही प्रारंभ हुआ था। यद्यपि आज भी महासागर पृथ्वी की सतह के दो-तिहाई भाग को ढके हुए हैं और विविध प्रकार के पौधों और जंतुओं को मदद करते हैं। महासागरों का जल लवणीय है और मानवीय उपभोग के लिए उपयुक्त नहीं है। अलवण जल केवल 2.7 प्रतिशत ही है। इसका लगभग 70 प्रतिशत भाग बर्फ की चादरों और हिमानियों के रूप में अंटार्कटिका, ग्रीनलैंड और पर्वतीय प्रदेशों में पाया जाता है। अपनी स्थिति के कारण ये मनुष्य की पहुँच के बाहर है। केवल एक प्रतिशत अलवण जल उपलब्ध है और वह मानव उपभोग के लिए उपयुक्त है। यह भौम जल, नदियों और झीलों में पृष्ठीय जल के रूप में तथा वायुमंडल में जलवाष्प के रूप में पाया जाता है।

### क्या आप जानते हैं?

वर्ष 1975 में मानव उपयोग के लिए जल की खपत 3850 घन कि.मी./वर्ष थी जो वर्ष 2000 में बढ़कर 6000 घन कि.मी./वर्ष से भी अधिक हो गई है।

### क्या आप जानते हैं?

एक टपकता नल एक वर्ष में 1,200 लीटर जल व्यर्थ करता है।



### क्रियाकलाप

औसतन एक भारतीय नागरिक प्रतिदिन लगभग 150 लीटर जल का उपयोग करता है।

उपयोग	लीटर प्रति व्यक्ति प्रतिदिन
पीना	3
खाना बनाना	4
नहाना	20
शौचालय (फलशिंग)	40
वस्त्र धोना	40
बर्तन धोना	20
बागवानी	23
<b>कुल</b>	<b>150</b>

क्या आप इस उपयोग को कम करने के तरीके सोच सकते हैं?



इसलिए अलवणीय जल पृथ्वी का सबसे अधिक मूल्यवान पदार्थ है। पृथ्वी पर जल न बढ़ाया जा सकता है और न घटाया जा सकता है। इसकी कुल मात्रा स्थिर रहती है। इसकी प्रचुरता में विविधता प्रतीत होती है क्योंकि यह वाष्पीकरण, वर्षण और वाह की प्रक्रियाओं द्वारा महासागरों, वायु, भूमि और पुनः महासागरों में चक्रण द्वारा निरंतर गतिशील है। जैसा कि आप जानते हैं इसे 'जल चक्र' कहते हैं। मनुष्य जल की बड़ी मात्रा का उपयोग न केवल पीने और धुलाई में ही करता है वरन उत्पादन

प्रक्रिया में भी करता है। जल कृषि, उद्योगों तथा बाँधों के जलाशयों के माध्यम से विद्युत उत्पादन करने में भी प्रयोग किया जाता है। जल स्रोतों के सूखने अथवा जल प्रदूषण के कारण अलवणीय जल की आपूर्ति की कमी के मुख्य कारक बढ़ती जनसंख्या, भोजन और नकदी फसलों की बढ़ती माँग, बढ़ता नगरीकरण और बेहतर होता जीवन स्तर हैं।

### जल उपलब्धता की समस्याएँ

विश्व के कई प्रदेशों में जल की कमी है। अधिकांश अफ्रीका, पश्चिमी एशिया, दक्षिणी एशिया, पश्चिमी संयुक्त राज्य अमेरिका के भाग, उत्तर-पश्चिमी मैक्सिको, दक्षिण अमेरिका के भाग और संपूर्ण आस्ट्रेलिया अलवणीय जल की आपूर्ति की कमी का सामना कर रहे हैं। ये देश ऐसे जलवायु प्रदेशों में स्थित हैं जहाँ अकसर सूखा पड़ता है। उनमें जलाभाव की अधिक समस्या बनी रहती है। इस प्रकार जल का अभाव मौसमी अथवा वार्षिक वर्षण में विविधता के परिणामस्वरूप हो सकता है अथवा अति उपयोग और जल स्रोतों के संदूषण के कारण भी जल का अभाव हो सकता है।



चित्र 2.8: यमुना नदी वाहित मल, औद्योगिक बहिःस्राव एवं कचरे के कारण प्रदूषित हो रही है

### जल संसाधनों का संरक्षण

आज के विश्व में शुद्ध तथा पर्याप्त जल स्रोतों तक पहुँचना एक बड़ी समस्या बन गई है। इस क्षीण होते संसाधन के संरक्षण के लिए कदम उठाने चाहिए। यद्यपि जल एक नवीकरणीय संसाधन है तथापि इसका





अतिउपयोग और प्रदूषण इसे उपयोग के लिए अनुपयुक्त बना देते हैं। अशोधित या आंशिक रूप से शोधित वाहित मल, कृषि रसायनों का विसर्जन और जल निकायों में औद्योगिक बहिःस्राव जल के प्रमुख संदूषक हैं। इनमें शामिल नाइट्रेट धातुएँ और पीड़कनाशी, जल को प्रदूषित कर देते हैं। इनमें से अधिकांश रसायन अजैव निम्नीकरणीय होने के कारण जल द्वारा मानव शरीर में पहुँच जाते हैं। इन प्रदूषकों को जल निकायों में छोड़ने से पूर्व बहिःस्रावों को उपयुक्त विधि से शोधित करके जल प्रदूषण नियंत्रित किया जा सकता है।

वन और अन्य वनस्पति आवरण धरातलीय प्रवाह को मंद करते हैं और भूमिगत जल को पुनः पूरित करते हैं। जल संग्रहण पृष्ठीय प्रवाह को बचाने की दूसरी विधि है। जल रिसाव को कम करने के लिए खेतों को सिंचित करने वाली नहरों को ठीक से पक्का करना चाहिए। रिसाव और वाष्पीकरण से होने वाली जल क्षति को रोकने के लिए क्षेत्र की सिंप्रकलरों से सिंचाई करना अधिक प्रभावी विधि है। वाष्पीकरण की अधिक दर वाले शुष्क प्रदेशों में सिंचाई की ड्रिप अथवा टपकन विधि बहुत उपयोगी होती है। सिंचाई की इन विधियों को अपनाकर बहुमूल्य जल संसाधन को संरक्षित किया जा सकता है।

## प्राकृतिक वनस्पति और वन्य जीवन

स्कूल के बच्चे हस्तशिल्प प्रदर्शनी में घूम रहे थे। प्रदर्शनी की वस्तुएँ देश के भिन्न-भिन्न भागों से एकत्रित की गई थीं। मोना ने एक थैला हाथ में उठाया और उत्साह से कहा, “यह एक सुंदर हैंड बैग है!” अध्यापिका ने कहा, “हाँ, यह जूट से बना है।” “क्या आप उन टोकरियों, दीप छत्रों और कुर्सियों को देखते हैं? वे बेंत और बाँस की बनी हैं। भारत के पूर्वी और उत्तर पूर्वी आर्द्र प्रदेशों में बाँस प्रचुर मात्रा में पैदा किया जाता है।” जेस्सी रेशमी स्कार्फ देखकर उत्साहित थी। “यह खूबसूरत स्कार्फ देखो।” अध्यापिका ने स्पष्ट किया कि रेशम रेशमकीटों से प्राप्त किया जाता है जो शहतूत के पेड़ों पर पाले जाते हैं। बच्चे समझ गए कि पौधे हमें अनेक विभिन्न उत्पाद प्रदान करते हैं जिनका उपयोग हम अपने दैनिक जीवन में करते हैं।

प्राकृतिक वनस्पति और वन्य जीवन केवल स्थलमंडल, जलमंडल और वायुमंडल के बीच जुड़े एक सँकरे क्षेत्र में ही पाए जाते हैं जिसे हम **जैवमंडल** कहते हैं। जैवमंडल में



चित्र 2.9: सिंप्रकलर

### क्या आप जानते हैं?

अपने घर की छत पर वर्षा जल एकत्र करके, इस जल का संग्रहण करना एवं विभिन्न उत्पादक उपयोगों में लाना वर्षा जल संग्रहण कहलाता है। औसतन दो घंटे की वर्षा का एक दौर 8,000 लीटर जल बचाने के लिए काफी है।



चित्र 2.10: रेशमकीट



### क्या आप जानते हैं?

भारतीय उप-महाद्वीप में जिन पशुओं का उपचार डिक्लोफिनैक, एस्प्रीन अथवा इबुप्रोफेन जैसे पीड़नाशी से किया जाता था, उनके अपमार्जन उपरांत गिद्ध किडनी खराब होने से मर रहे थे। पशुओं पर इन औषधियों के उपयोग करने पर प्रतिबंध लगाने के प्रयास किए जा रहे हैं तथा आरक्षित स्थान पर गिद्ध के प्रजनन के प्रयास किए जा रहे हैं।



चित्र 2.13: घास स्थल एवं वन


सभी जीवित जातियाँ जीवित रहने के लिए एक-दूसरे से परस्पर संबंधित और निर्भर रहती हैं। इस जीवन आधारित तंत्र को पारितंत्र कहते हैं। वनस्पति और वन्य जीवन बहुमूल्य संसाधन हैं। पौधे हमें इमारती लकड़ी देते हैं, प्राणियों को आश्रय देते हैं, ऑक्सीजन उत्पन्न करते हैं जिसमें हम साँस लेते हैं, फसलों को उगाने के लिए आवश्यक मृदा की सुरक्षा करते हैं, रक्षक मेखला के रूप में कार्य करते हैं, भूमिगत जल के संग्रह में सहायता करते हैं, हमें फल, लैटेक्स, तारपीन का तेल, गोंद, औषधीय पौधे और कागज प्रदान करते हैं जो आपके अध्ययन के लिए अत्यधिक आवश्यक है। पौधों के असंख्य उपयोग हैं उनमें आप कुछ और जोड़ सकते हैं।

वन्य जीवन के अंतर्गत जंतु, पक्षी, कीट एवं जलीय जीव रूप आते हैं। उनसे हमें दूध, मांस, खाल और ऊन प्राप्त होती है। कीट जैसे

मधुमक्खी हमें शहद देती हैं, फूलों के परागण में मदद करती है और पारितंत्र में अपघटक के रूप में एक महत्वपूर्ण भूमिका निभाती हैं। चिड़ियाँ अपने भोजन के लिए कीटों पर निर्भर हैं और अपघटकों के रूप में कार्य करती हैं। गिद्ध मृत जीव-जंतुओं को खाने के कारण एक अपमार्जक है और पर्यावरण का एक महत्वपूर्ण शोधक समझा जाता है। इसलिए प्राणी चाहे बड़े हों अथवा छोटे सभी पारितंत्र के संतुलन को बनाए रखने के लिए अनिवार्य हैं।

### प्राकृतिक वनस्पति का वितरण

वनस्पति की वृद्धि मुख्य रूप से तापमान और आर्द्रता पर निर्भर करती है। विश्व की वनस्पति के मुख्य प्रकारों को चार वर्गों में रखा जा सकता है, जैसे वन, घास स्थल, गुल्म और टुंड्रा।



चित्र 2.11: ब्रह्मकमल—एक औषधीय बूटी



चित्र 2.12: किलकिला (किंग फिशर)

भारी वर्षा वाले क्षेत्रों में विशाल वृक्ष उग सकते हैं। इस प्रकार वन प्रचुर जल आपूर्ति वाले क्षेत्रों में ही पाए जाते हैं। जैसे-जैसे आर्द्रता कम होती है वैसे-वैसे वृक्षों का आकार और उनकी सघनता कम हो जाती है। सामान्य वर्षा वाले क्षेत्रों में छोटे आकार वाले वृक्ष और घास उगती है जिससे विश्व के घास स्थलों का निर्माण होता है। कम वर्षा वाले शुष्क प्रदेशों में कँटीली झाड़ियाँ एवं गुल्म उगते हैं। इस प्रकार के क्षेत्रों में पौधों की जड़ें गहरी होती हैं। वाष्पोत्सर्जन से होने वाली आर्द्रता की हानि को घटाने के लिए इन पेड़ों की पत्तियाँ काँटेदार और मोमी सतह वाली होती हैं। शीत ध्रुवीय प्रदेशों की टुंड्रा वनस्पति में मॉस और लाइकेन सम्मिलित हैं।

पिछली दो शताब्दियों में विश्व में जितने लोग थे इस समय उनसे कहीं अधिक लोग हैं। बढ़ती जनसंख्या के पोषण के लिए, फ़सलों को उगाने के लिए, वनों के विशाल क्षेत्रों से वृक्ष काट दिए गए हैं। विश्व भर में वनों का आवरण तेज़ी से समाप्त हो रहा है। इस बहुमूल्य संसाधन के संरक्षण की तुरंत आवश्यकता है।

### प्राकृतिक वनस्पति और वन्य जीवन का संरक्षण

वन हमारी संपदा है। पौधे जंतुओं को आश्रय प्रदान करते हैं और साथ ही पारितंत्र को भी अनुरक्षित रखते हैं। जलवायु में परिवर्तन और मानव हस्तक्षेप के कारण पौधों और जंतुओं के प्राकृतिक आवास नष्ट हो सकते हैं। बहुत-सी जातियाँ असुरक्षित अथवा संकटापन्न हैं और कुछ लुप्त होने के कगार पर हैं। वनोन्मूलन, मृदा अपरदन, निर्माण कार्य, दावानल और भूस्खलन में से कुछ मानव और प्राकृतिक कारक हैं जो मिलकर इन महत्वपूर्ण प्राकृतिक संसाधनों के लुप्त होने की प्रक्रिया को बढ़ावा देते हैं। आज की मुख्य चिंताओं में से एक अनाधिकार शिकार करने की संख्या का बढ़ना है जिससे कुछ खास प्रजातियों की संख्या



चित्र 2.14: वन में अजगर



चित्र 2.15: स्कूल में छात्रों द्वारा वनों पर बनाया गया कोलाज



चित्र 2.16: सुनामी के पश्चात ग्रेट निकोबार के वर्षा-प्रचुर वन में क्षति

भूमि, मृदा, जल, प्राकृतिक वनस्पति और वन्य जीवन संसाधन 17





चित्र 2.17: ब्लैकबक को सुरक्षा की आवश्यकता है

में तेजी से कमी आई है। पशु खाल, चमड़ा, नाखून, दाँत और पंखों के साथ-साथ सींगों के एकत्रीकरण और गैर-कानूनी व्यापार के लिए जंतुओं का अनाधिकार शिकार किया गया है। इनमें से कुछ जंतु चीता, शेर, हाथी, ब्लैकबक, मगरमच्छ, दरियाई घोड़ा, हिम तेंदुआ, शुतुरमुर्ग और मोर हैं। इनका संरक्षण जागरूकता बढ़ाकर किया जा सकता है।

राष्ट्रीय उद्यान, वन्य जीव अभयारण्य, जैवमंडल निचय, हमारी प्राकृतिक वनस्पति और वन्य जीवन को सुरक्षित रखने के लिए बनाए जाते हैं। सँकरी घाटियों, झीलों और आर्द्रभूमि का संरक्षण मूल्यवान संसाधन नष्ट होने से बचाने के लिए आवश्यक है।

## दावानल

### क्रियाकलाप

समाचारों को पढ़िए और ज्ञात कीजिए कि यह अग्नि कैसे प्रारंभ हुई? क्या इससे बचा जा सकता था?

### अधिक जानिए

दावानल प्राणिजात और वनस्पतिजात के संपूर्ण क्षेत्र के लिए एक खतरा है। दावानल मुख्य रूप से तीन कारणों से घटित होता है :

1. तड़ित झंझा के कारण प्राकृतिक अग्नि का लगना।
2. लोगों की लापरवाही के कारण घास-फूस में जनित ऊष्मा के कारण अग्नि का लगना।
3. स्थानिक लोगों, ऊधमी एवं शरारती लोगों द्वारा किसी उद्देश्य से अग्नि लगाना।

### नियंत्रण के कुछ उपाय

1. शिक्षण द्वारा अग्नि लगने से रोकना।
2. परीक्षण बिंदुओं, निपुण भूमि चौकसी तथा संचार जाल के समन्वित जाल द्वारा अग्नि लगने का शीघ्र पता लगाना।

यदि प्रजातियों की सापेक्ष संख्या को भंग न किया जाए तो पर्यावरण में संतुलन बना रहता है। विश्व के अनेक भागों में मनुष्य ने अपने क्रियाकलापों से अनेक प्रजातियों के प्राकृतिक आवासों में उथल-पुथल कर दी है। अनेक पक्षियों और जीव-जंतुओं के अंधाधुंध शिकार के कारण या तो वे विलुप्त हो गए हैं या विलुप्त होने के कगार पर हैं। प्रादेशिक और सामुदायिक स्तर पर जागरूकता कार्यक्रमों जैसे सामाजिक वानिकी, वनमहोत्सव को प्रोत्साहित करना चाहिए। स्कूल के बच्चों को पक्षी देखने, प्राकृतिक कैंपों में जाने के लिए प्रोत्साहित करना चाहिए ताकि वे विविध जातियों के निवास का अवलोकन कर सकें।

बहुत से देश पक्षियों और पशुओं को मारने और उनके व्यापार करने के विरुद्ध हैं। भारत में शेरों, चीतों, हिरणों, भारतीय सारंग और मोर को मारना अवैध है।

एक अंतर्राष्ट्रीय परिपाटी सी.आई.टी.ई.एस. (द कन्वेंशन ऑन इंटरनेशनल ट्रेड इन इनडेंजर्ड स्पीशीस ऑफ वाइल्ड फौना एंड फ्लौरा) की स्थापना की गई है जिसने प्राणियों और पक्षियों की अनेक जातियों की सूची तैयार की है। इस सूची में दिए गए सभी पक्षियों और प्राणियों के व्यापार करने पर प्रतिबंध लगाया गया है। पौधों और प्राणियों का संरक्षण प्रत्येक नागरिक का नैतिक कर्तव्य है।



चित्र 2.18: चीतलों का झुंड



चित्र 2.19: काजीरंगा राष्ट्रीय उद्यान में हाथियों का झुंड

### शब्दावली

#### राष्ट्रीय उद्यान

वर्तमान और भविष्य की पीढ़ी के लिए एक या एक से अधिक पारितंत्रों की पारिस्थितिक एकता की रक्षा के लिए नामित किया गया प्राकृतिक क्षेत्र।

### शब्दावली

#### जैवमंडल निचय

यह वैश्विक नेटवर्क द्वारा जुड़े रक्षित क्षेत्रों की एक शृंखला है जिसे संरक्षण और विकास के बीच संबंध को प्रदर्शित करने के इरादे से बनाया गया है।

### क्या आप जानते हैं?

सी.आई.टी.ई.एस. (द कन्वेंशन ऑन इंटरनेशनल ट्रेड इन इनडेंजर्ड स्पीशीस ऑफ वाइल्ड फौना एंड फ्लौरा) सरकारों के बीच एक अंतर्राष्ट्रीय समझौता है। इसका उद्देश्य यह सुनिश्चित करना है कि वन्य प्राणी एवं पौधों के नमूनों के अंतर्राष्ट्रीय व्यापार से उनके जीवन को कोई खतरा नहीं है। मोटे तौर पर पशुओं की 5,000 जातियाँ और पौधों की 28,000 जातियाँ रक्षित की गई हैं। भालू, डाल्फिन, कैक्टस, प्रवाल, आर्किड और ऐलो कुछ उदाहरण हैं।

भूमि, मृदा, जल, प्राकृतिक वनस्पति और वन्य जीवन संसाधन 19





## अभ्यास

### 1. निम्न प्रश्नों के उत्तर दीजिए –

- मृदा निर्माण के लिए उत्तरदायी दो मुख्य जलवायु कारक कौन-से हैं?
- भूमि निम्नीकरण के कोई दो कारण लिखिए।
- भूमि को महत्वपूर्ण संसाधन क्यों माना जाता है?
- किन्हीं दो सोपानों के नाम बताइए जिन्हें सरकार ने पौधों और प्राणियों के संरक्षण के लिए आरंभ किया है।
- जल संरक्षण के तीन तरीके बताइए।

### 2. सही उत्तर को चिह्नित कीजिए –

- निम्नलिखित में से कौन-सा कारक मृदा निर्माण का नहीं है?  
(क) समय (ख) मृदा का गठन (ग) जैव पदार्थ
- निम्नलिखित में से कौन-सी विधि तीव्र ढालों पर मृदा अपरदन को रोकने के लिए सर्वाधिक उपयुक्त है?  
(क) रक्षक मेखला (ख) मलचिंग (ग) वेदिका कृषि
- निम्नलिखित में से कौन-सा प्रकृति के संरक्षण के अनुकूल नहीं है?  
(क) बल्ब को बंद कर देना चाहिए जब आवश्यकता न हो।  
(ख) नल को उपयोग के बाद तुरंत बंद कर देना चाहिए।  
(ग) खरीददारी के बाद पॉली पैक को नष्ट कर देना चाहिए।

### 3. निम्नलिखित का मिलान कीजिए –

- |                 |   |
|-----------------|---|
| (क) भूमि उपयोग  | (i) मृदा अपरदन को रोकना   |
| (ख) ह्यूमस      | (ii) स्थलमंडल, जलमंडल और वायुमंडल के बीच जुड़ा एक संकरा क्षेत्र |
| (ग) चट्टान बाँध | (iii) भूमि का उत्पादनकारी उपयोग                                 |
| (घ) जैवमंडल     | (iv) ऊपरी मृदा पर निक्षेपित जैव पदार्थ                          |
|                 | (v) समोच्चरेखीय जुताई   |

### 4. निम्नलिखित कथनों में से सत्य अथवा असत्य बताइए। यदि सत्य है तो उसके कारण लिखिए–

- भारत का गंगा, ब्रह्मपुत्र का मैदान अत्यधिक आबाद प्रदेश है।



- (ii) भारत में प्रति व्यक्ति जल की उपलब्धता कम हो रही है।
- (iii) तटीय क्षेत्रों में पवन गति रोकने के लिए वृक्ष कतार में लगाए जाते हैं, जिसे बीच की फसल उगाना कहते हैं।
- (iv) मानवीय हस्तक्षेप और जलवायु परिवर्तन पारितंत्र को व्यवस्थित रख सकते हैं।

#### 5. क्रियाकलाप

भूमि उपयोग प्रतिरूप के परिवर्तन के लिए उत्तरदायी कुछ और कारणों की चर्चा कीजिए। पिछले कुछ वर्षों में क्या आपके स्थान पर भूमि उपयोग प्रतिरूप में कोई परिवर्तन हुआ है? अपने माता-पिता और बड़े लोगों से पता कीजिए। आप निम्नलिखित प्रश्नों को पूछकर एक साक्षात्कार ले सकते हैं –

स्थान	जब आपके दादा-दादी 30 वर्ष की आयु में थे।	जब आपके माता-पिता 30 वर्ष की आयु में थे।	आप क्यों सोचते हैं कि ऐसा हो रहा है?	क्या सामान्य क्षेत्र और खुले क्षेत्र विलुप्त हो रहे हैं?
<b>ग्रामीण</b>				
पशु और मुर्गी पालन उद्योग की संख्या				
गाँव में पेड़ों और तालाबों की संख्या				
परिवार के मुखिया का व्यवसाय				
<b>नगरीय</b>				
कारों की संख्या				
घर में कमरों की संख्या				
पक्की सड़कों की संख्या				
पार्क और खेल के मैदानों की संख्या				

आपने जो तालिका पूरी की है उसके आधार पर भूमि उपयोग प्रतिरूपों का एक चित्र बनाइए जिन्हें आप 20 वर्ष बाद अपने पड़ोस में देखने की कल्पना करते हैं। आप क्यों सोचते हैं कि वर्षों बाद भूमि उपयोग प्रतिरूप बदल जाता है?



3

## कृषि



0859CH04



गुरप्रीत, मधु और टीना एक गाँव से गुज़र रहे थे, वहाँ उन लोगों ने एक किसान को खेत की जुताई करते हुए देखा। किसान ने उन लोगों से कहा कि वह गेहूँ की बुआई करने जा रहा है और मृदा को अधिक उपजाऊ बनाने के लिए अभी खाद डाला है। उसने बच्चों से कहा कि गेहूँ मंडी में अच्छी कीमत पर बिकेगा, जहाँ से उसे आटे में परिवर्तित करके कारखाने में डबलरोटी और बिस्कुट बनाने के लिए ले जाया जाएगा।

पौधे से परिष्कृत उत्पाद तक के रूपांतरण में तीन प्रकार की आर्थिक क्रियाएँ सम्मिलित हैं। ये प्राथमिक, द्वितीयक और तृतीयक क्रियाएँ हैं।

प्राथमिक क्रियाओं के अंतर्गत उन सभी क्रियाओं को शामिल किया जाता है जिनका संबंध प्राकृतिक संसाधनों के उत्पादन और निष्कर्षण से है। कृषि, मत्स्यन और संग्रहण इनके अच्छे उदाहरण हैं। द्वितीयक क्रियाएँ इन संसाधनों के प्रसंस्करण से संबंधित हैं। इस्पात विनिर्माण, डबलरोटी पकाना और कपड़ा बुनना इन क्रियाओं के उदाहरण हैं। तृतीयक क्रियाएँ प्राथमिक और द्वितीयक क्षेत्र को सेवा कार्यों द्वारा सहयोग प्रदान करती हैं। यातायात, व्यापार, बैंकिंग, बीमा और विज्ञापन तृतीयक क्रियाओं के उदाहरण हैं।

**कृषि** एक प्राथमिक क्रिया है। फ़सलों, फलों, सब्जियों, फूलों को उगाना और पशुधन पालन इसमें शामिल हैं। विश्व में पचास प्रतिशत लोग कृषि से संबंधित क्रियाओं में संलग्न हैं। भारत की दो-तिहाई जनसंख्या अब तक कृषि पर निर्भर है।

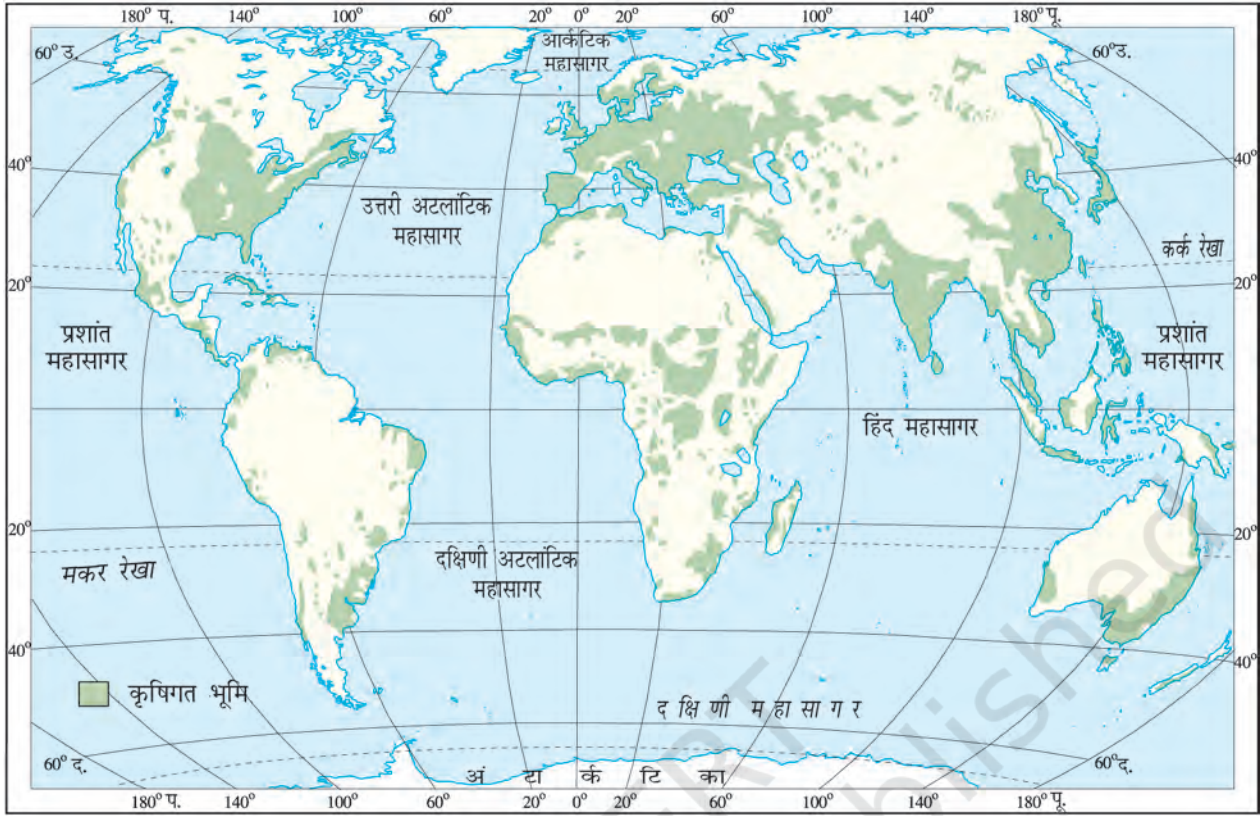
अनुकूल स्थलाकृति, मृदा और जलवायु कृषि क्रियाकलाप के लिए अनिवार्य हैं। जिस भूमि पर फ़सलें उगाई जाती हैं, कृषिगत भूमि कहलाती है (चित्र 3.1)। आप मानचित्र में देख सकते हैं कि कृषि क्रियाकलाप विश्व के उन्हीं प्रदेशों में संकेंद्रित हैं जहाँ फ़सल उगाने के लिए उपयुक्त कारक विद्यमान हैं।

### शब्द उत्पत्ति

एग्रीकल्चर शब्द की उत्पत्ति, लैटिन शब्दों एगर या एग्री जिसका अर्थ मृदा और कल्चर जिसका अर्थ कृषि करने से हुई है।







चित्र 3.1 : कृषिगत भूमि का विश्व वितरण



क्या आप जानते हैं?



#### एग्रीकल्चर (कृषि)

मृदा की जुताई, फसलों को उगाना और पशुपालन का विज्ञान एवं कला है। इसे खेती भी कहते हैं।

#### सेरीकल्चर (रेशम उत्पादन)

रेशम के कीटों का वाणिज्यिक पालन। यह कृषक की आय में पूरक हो सकता है।

#### पिसीकल्चर (मत्स्यपालन)

विशेष रूप से निर्मित तालाबों और पोखरों में मत्स्यपालन।

#### विटिकल्चर (द्राक्षा कृषि)


अंगूरों की खेती।

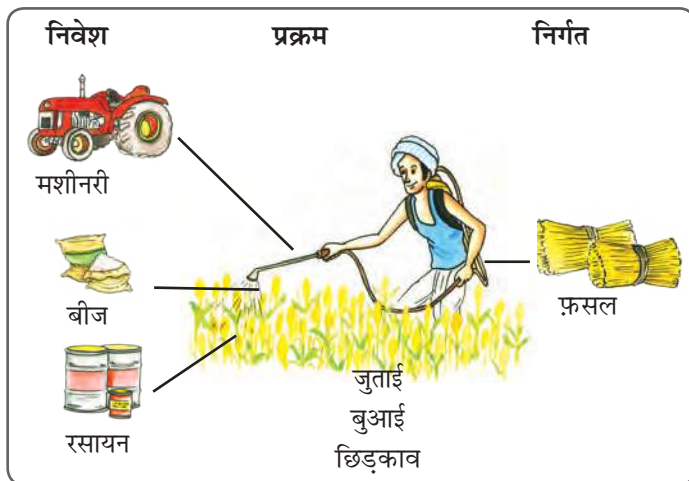
#### हॉर्टीकल्चर (उद्यान कृषि)

वाणिज्यिक उपयोग के लिए सब्जियों, फूलों और फलों को उगाना।


### कृषि तंत्र

कृषि या खेती को एक तंत्र के रूप में देखा जा सकता है। इसके महत्वपूर्ण निवेश बीज, उर्वरक, मशीनरी और श्रमिक हैं। जुताई, बुआई,





चित्र 3.2 : कृषिगत भूमि की कृषि पद्धति



चित्र 3.3 : भौतिक एवं मानवीय कृषि निवेश

सिंचाई, निराई और कटाई इसकी कुछ संक्रियाएँ हैं। इस तंत्र के निर्गतों के अंतर्गत फ़सल, ऊन, डेरी और कुक्कुट उत्पाद आते हैं।

### कृषि के प्रकार

विश्व में कृषि विभिन्न तरीकों से की जाती है। भौगोलिक दशाओं, उत्पाद की माँग, श्रम और प्रौद्योगिकी के स्तर के आधार पर कृषि दो मुख्य प्रकारों में वर्गीकृत की जा सकती है। ये हैं निर्वाह कृषि और वाणिज्यिक कृषि।

### निर्वाह कृषि

इस प्रकार की कृषि कृषक परिवार की आवश्यकताओं को पूरा करने के लिए की जाती है। पारंपरिक रूप से कम उपज प्राप्त करने के लिए निम्न स्तरीय प्रौद्योगिकी और पारिवारिक श्रम का उपयोग किया जाता है। निर्वाह कृषि को पुनः गहन निर्वाह कृषि और आदिम निर्वाह कृषि में वर्गीकृत किया जा सकता है।

**गहन निर्वाह कृषि** में किसान एक छोटे भूखंड पर साधारण औजारों और अधिक श्रम से खेती करता है। अधिक धूप वाले दिनों से युक्त जलवायु और उर्वर मृदा वाले खेत में, एक वर्ष में एक से अधिक फ़सलें उगाई जा सकती हैं। चावल मुख्य फ़सल होती है। अन्य फ़सलों में गेहूँ, मक्का, दलहन और तिलहन शामिल हैं। गहन निर्वाह कृषि दक्षिणी, दक्षिण-पूर्वी और पूर्वी एशिया के सघन जनसंख्या वाले मानसूनी प्रदेशों में प्रचलित है।

**आदिम निर्वाह कृषि** में स्थानांतरी कृषि और चलवासी पशुचारण शामिल हैं।

### रोचक तथ्य

#### जैविक कृषि

इस प्रकार की कृषि में रासायनिक खादों के स्थान पर जैविक खाद और प्राकृतिक पीड़कनाशी का उपयोग किया जाता है। फ़सलों का उत्पादन बढ़ाने के लिए कोई आनुवंशिक रूपांतरण नहीं किया जाता है।



**स्थानांतरी कृषि** अमेजन बेसिन के सघन वन क्षेत्रों, उष्ण कटिबंधीय अफ्रीका, दक्षिण-पूर्व एशिया और उत्तरी-पूर्वी भारत के भागों में प्रचलित है। ये भारी वर्षा और वनस्पति के तीव्र पुनर्जनन वाले क्षेत्र हैं। वृक्षों को काटकर और जलाकर भूखंड को साफ़ किया जाता है। तब राख को मृदा में मिलाया जाता है तथा मक्का, रतालू, आलू और कसावा जैसी फ़सलों को उगाया जाता है। भूमि की उर्वरता की समाप्ति के बाद वह भूमि छोड़ दी जाती है और कृषक नए भूखंड पर चला जाता है। स्थानांतरी कृषि को 'कर्तन एवं दहन' कृषि के रूप में भी जाना जाता है।

**चलवासी पशुचारण** सहारा के अर्धशुष्क और शुष्क प्रदेशों में, मध्य एशिया और भारत के कुछ भागों जैसे राजस्थान तथा जम्मू और कश्मीर में प्रचलित है। इस प्रकार की कृषि में पशुचारक अपने पशुओं के साथ चारे और पानी के लिए एक स्थान से दूसरे स्थान पर निश्चित मार्गों से घूमते हैं। इस प्रकार की गतिविधि जलवायविक बाधाओं और भूभाग की प्रतिक्रियास्वरूप उत्पन्न होती है। पशुचारक मुख्यतः भेड़, ऊँट, मवेशी, याक और बकरियाँ पालते हैं। ये पशुचारकों और उनके परिवारों के लिए दूध, मांस, ऊन, खाल और अन्य उत्पाद उपलब्ध कराते हैं।

### वाणिज्यिक कृषि

वाणिज्यिक कृषि में फ़सल उत्पादन और पशुपालन बाज़ार में विक्रय हेतु किया जाता है। इसमें विस्तृत कृष्ट क्षेत्र और अधिक पूँजी का उपयोग किया जाता है। अधिकांश कार्य मशीनों के द्वारा किया जाता है। वाणिज्यिक कृषि में वाणिज्यिक अनाज कृषि, मिश्रित कृषि और रोपण कृषि शामिल हैं (चित्र 3.5)।

**वाणिज्यिक अनाज कृषि** में फ़सलें वाणिज्यिक उद्देश्य से उगाई जाती हैं। गेहूँ और मक्का सामान्य रूप से उगाई जाने वाली फ़सलें हैं। उत्तर अमेरिका, यूरोप और एशिया के शीतोष्ण घास के मैदान वाणिज्यिक अनाज कृषि के प्रमुख क्षेत्र हैं। ये क्षेत्र सैकड़ों हेक्टेयर के बड़े फार्मों से युक्त बिरल आबादी वाले हैं। अत्यधिक ठंड वर्धनकाल को बाधित करती है और केवल एक ही फ़सल उगाई जा सकती है।

**मिश्रित कृषि** में भूमि का उपयोग भोजन व चारे की फ़सलें उगाने और पशुधन पालन के लिए किया जाता है। यह यूरोप, पूर्वी संयुक्त राज्य अमेरिका, अर्जेंटीना, दक्षिण-पूर्वी आस्ट्रेलिया, न्यूजीलैंड और दक्षिण अफ्रीका में प्रचलित है।

### क्या आप जानते हैं?

स्थानांतरी कृषि विश्व के विभिन्न भागों में विभिन्न नामों से जानी जाती है।

**झूमिंग** - उत्तर-पूर्वी भारत

**मिल्या** - मैक्सिको, मध्य अमेरिका

**रोका** - ब्राजील

**लदांग** - मलेशिया



चित्र 3.4: चलवासी पशुचारक अपने ऊँटों के साथ



चित्र 3.5: गन्ने की रोपण कृषि



चित्र 3.6: केले की रोपण कृषि

**रोपण कृषि** वाणिज्यिक कृषि का एक प्रकार है जहाँ चाय, कहवा, काजू, रबड़, केला अथवा कपास की एकल फ़सल उगाई जाती है। इसमें बृहत पैमाने पर श्रम और पूँजी की आवश्यकता होती है। उत्पाद का प्रसंस्करण खेतों पर ही या निकट के कारखानों में किया जा सकता है। इस प्रकार, इस कृषि में परिवहन जाल के विकास की अनिवार्यता होती है।

रोपण कृषि के मुख्य क्षेत्र विश्व के उष्ण कटिबंधीय प्रदेशों में पाए जाते हैं। मलेशिया में रबड़, ब्राजील में कहवा, भारत और श्रीलंका में चाय इसके कुछ उदाहरण हैं।

### मुख्य फ़सलें

बढ़ती हुई जनसंख्या की आवश्यकताओं को पूरा करने के लिए विविध प्रकार की फ़सलें उगाई जाती हैं। फ़सलें कृषि आधारित उद्योगों के लिए भी कच्चे माल की आपूर्ति करती हैं। गेहूँ, चावल, मक्का और बाजरा मुख्य खाद्य फ़सलें हैं। जूट और कपास रेशेदार फ़सलें हैं। चाय और कहवा मुख्य पेय फ़सलें हैं।



चित्र 3.7: चावल की कृषि

**चावल** : यह विश्व की मुख्य खाद्य फ़सल है। यह उष्ण कटिबंधीय और उपोष्ण कटिबंधीय प्रदेशों का मुख्य आहार है। चावल के लिए उच्च तापमान, अधिक आर्द्रता एवं वर्षा की आवश्यकता होती है। यह फ़सल चीकायुक्त जलोढ़ मृदा जिसमें जल रोकने की क्षमता हो, में सर्वोत्तम ढंग से बढ़ती है। चीन चावल उत्पादन में अग्रणी है। इसके बाद क्रमशः भारत, जापान, श्रीलंका और मिस्र हैं। अनुकूल जलवायविक दशाओं जैसे पश्चिमी बंगाल और बांग्लादेश में एक वर्ष में दो से तीन फ़सलें उगाई जाती हैं।



चित्र 3.8: गेहूँ का सस्य कर्तन

**गेहूँ** : गेहूँ के वर्धनकाल में मध्यम तापमान एवं वर्षा और सस्य कर्तन (फसल की कटाई) के समय तेज़ धूप की आवश्यकता होती है। इसका विकास सु-अपवाहित दुमट मृदा में सर्वोत्तम ढंग से होता है। गेहूँ संयुक्त राज्य अमेरिका, कनाडा, अर्जेंटीना, रूस, यूक्रेन, आस्ट्रेलिया और भारत में विस्तृत रूप से उगाया जाता है। भारत में यह शीत ऋतु में उगाया जाता है।



चित्र 3.9: बाजरे की कृषि

**मिलेट** : ये मोटे अनाज के रूप में भी जाने जाती हैं और कम उपजाऊ तथा बलुई मृदा में उगाई जा सकती हैं। ये ऐसी फ़सल हैं जिसे कम वर्षा और उच्च से मध्यम तापमान तथा पर्याप्त सूर्य प्रकाश की आवश्यकता होती है। ज्वार, बाजरा और रागी भारत

में उगाए जाते हैं। नाइजीरिया, चीन और नाइजर इसके अन्य उत्पादक देश हैं।



चित्र 3.10: मक्के की कृषि

**मक्का** : इसके लिए मध्यम तापमान, वर्षा और अधिक धूप की आवश्यकता होती है। इसे सु-अपवाहित उपजाऊ मृदा की आवश्यकता होती है। मक्का उत्तर अमेरिका, ब्राजील, चीन, रूस, कनाडा, भारत और मैक्सिको में उगाई जाती है।



चित्र 3.11: कपास की कृषि

**कपास** : इसकी वृद्धि के लिए उच्च तापमान, हल्की वर्षा, दो सौ से दो सौ दस पालारहित दिन और तेज़ चमकीली धूप की आवश्यकता होती है। यह काली और जलोढ़ मृदा में सर्वोत्तम उगती है। चीन, संयुक्त राज्य अमेरिका,

भारत, पाकिस्तान, ब्राजील और मिस्र कपास के अग्रणी उत्पादक हैं। यह सूती वस्त्र उद्योग के लिए एक महत्वपूर्ण कच्चा माल है।

**पटसन** : इसको 'सुनहरा रेशा' के रूप में भी जाना जाता है। यह जलोढ़ मृदा में अच्छे ढंग से विकसित होता है और इसे उच्च तापमान, भारी वर्षा और आर्द्र जलवायु की आवश्यकता होती है। यह फ़सल उष्ण कटिबंधीय क्षेत्रों में उगाई जाती है। भारत और बांग्लादेश पटसन के अग्रणी उत्पादक हैं।



चित्र 3.12: कॉफी की कृषि

**कॉफी** : इसके लिए गर्म एवं आर्द्र जलवायु और सु-अपवाहित दोमट मृदा की आवश्यकता होती है। इस फ़सल की वृद्धि के लिए पर्वतीय ढाल अधिक उपयुक्त होती है। ब्राजील कॉफी का अग्रणी उत्पादक है। इसके पश्चात् कोलंबिया और भारत हैं।

### क्या आप जानते हैं?

मक्का को 'कॉर्न' के नाम से भी जाना जाता है। विश्व में इसकी विभिन्न रंग-बिरंगी प्रजातियाँ पाई जाती हैं।



### रोचक तथ्य

कॉफी के पौधे की खोज किसने की?

कॉफी की खोज के विषय में विभिन्न कहानियाँ प्रचलित हैं। लगभग 850 ई. में कालदी नाम का एक अरबवासी, जो बकरी चराने वाला था, अपनी बकरियों की अनोखी उछल-कूद और हरकतों को देखकर परेशान था। एक दिन उसने भी उस सदाहरित पौधे की फलियों को चखकर देखा, जिन्हें उसकी बकरियाँ प्रतिदिन खाया करती थीं। उसने आनंद के भाव का अनुभव करने के बाद अपनी खोज के विषय में संसार को बताया।



चित्र 3.13: चाय की रोपण कृषि

**चाय:** बागानों में उगाई जाने वाली एक पेय फ़सल है। इसकी कोमल पत्तियों की वृद्धि के लिए ठंडी जलवायु और वर्ष भर समवितरित उच्च वर्षा की आवश्यकता होती है। इसके लिए सु-अपवाहित दुमट मृदा और मंद ढाल की आवश्यकता होती है। पत्तियों को चुनने के लिए अधिक संख्या में श्रमिकों की आवश्यकता होती है।

## कृषि का विकास

कृषि विकास का संबंध बढ़ती जनसंख्या की बढ़ती माँग को पूरा करने के लिए कृषि के उत्पादन को बढ़ाने की दिशा में किए जाने वाले प्रयासों से है। यह कई तरीकों से प्राप्त किया जा सकता है जैसे बोए गए क्षेत्र में विस्तार करके, बोई जाने वाली फ़सलों की संख्या बढ़ाकर, सिंचाई सुविधाओं में सुधार करके, उर्वरकों और उच्च उपज देने वाले बीजों के प्रयोग द्वारा। कृषि का मशीनीकरण भी कृषि के विकास का एक अन्य पहलू है। कृषि के विकास का चरम लक्ष्य खाद्य सुरक्षा को बढ़ाना है।

कृषि का विकास विश्व के विभिन्न भागों में विभिन्न गतियों से हुआ है। अधिक जनसंख्या वाले विकासशील देश अधिकतर गहन कृषि करते हैं, जहाँ छोटी जोतों पर सामान्यतः जीविकोपार्जन के लिए फ़सलें उगाई जाती हैं। बड़ी जोतों वाणिज्यिक कृषि के लिए अधिक उपयुक्त होती हैं जैसे संयुक्त राज्य अमेरिका, कनाडा और आस्ट्रेलिया में।

आओ, हम दो फार्मों – एक भारत और दूसरे संयुक्त राज्य अमेरिका – के वस्तुस्थिति अध्ययनों की सहायता से विकासशील और विकसित देशों की कृषि के विषय में जानें।

### भारत का एक फार्म

उत्तर प्रदेश के गाजीपुर ज़िले में आदिलाबाद एक छोटा-सा गाँव है। मुन्नालाल इस गाँव का एक छोटा किसान है जिसके पास लगभग 1.5 हेक्टेयर का एक फार्म है। उसका आवास मुख्य गाँव में है। वह अधिक उपज देने वाले बीजों को बाज़ार से वर्षों के एकांतर पर खरीदता है। उसकी भूमि उर्वर है और वह वर्ष में कम-से-कम दो फ़सलें, सामान्यतः गेहूँ या चावल और दालें, उगाता है। किसान अपने मित्रों और बुजुर्गों के साथ-साथ सरकारी कृषि अधिकारियों से कृषि कार्यों के संबंध में सलाह लेता है। वह अपने खेत की जुताई के लिए भाड़े पर ट्रैक्टर लेता है, यद्यपि उसके कुछ मित्र अभी भी बैलों से खेतों को जोतने की परंपरागत विधि का प्रयोग करते हैं। समीप के खेत में एक नलकूप है, जिसे वह अपने

**क्या आप जानते हैं?**

खाद्य सुरक्षा तभी बनी रहती है जब सभी व्यक्तियों को क्रियाशील और स्वस्थ जीवन जीने के लिए आहार की आवश्यकता और प्राथमिकता के आधार पर हर समय पर्याप्त, सुरक्षित और पौष्टिक खाद्य पदार्थ की सुविधा उपलब्ध हो।



चित्र 3.14: खेत जोतते किसान

खेत की सिंचाई के लिए भाड़े पर लेता है। मुन्नालाल के पास दो भैंस और कुछ मुर्गियाँ भी हैं। वह निकट के शहर में स्थित सहकारी भंडार में दूध बेचता है। वह वहाँ का एक सदस्य है। सहकारी समिति उसके जानवरों के लिए चारे के प्रकार, पशुधन के स्वास्थ्य के सुरक्षात्मक उपायों और कृत्रिम गर्भाधान के संबंध में भी सलाह देती है। कृषि के विविध कार्यों में परिवार के सभी सदस्य उसकी सहायता करते हैं। कभी-कभी वह बैंक या कृषि सहकारी समिति से बीजों की उच्च उपज वाली किस्मों और औजारों को खरीदने के लिए ऋण लेता है। वह अपने उत्पाद को निकट के शहर में स्थित मंडी में बेचता है। अधिकांश किसानों के पास भंडारण सुविधाओं की कमी होती है, इसलिए वे बाजार के अनुकूल न होने पर भी अपने उत्पादों को बेचने के लिए विवश होते हैं। हाल के वर्षों में, सरकार ने भंडारण की सुविधाओं के विकास के लिए कुछ कदम उठाए हैं।



चित्र 3.15: भारत के खेत

### संयुक्त राज्य अमेरिका का एक फार्म

संयुक्त राज्य अमेरिका में एक फार्म का औसत आकार भारतीय फार्म की तुलना में बहुत बड़ा होता है। संयुक्त राज्य अमेरिका में एक प्रारूपिक फार्म का आकार 250 हेक्टेयर होता है। किसान सामान्यतः फार्म में रहता है। मक्का, सोयाबीन, गेहूँ और चुकंदर यहाँ उगाई जाने वाली कुछ महत्वपूर्ण फ़सलें हैं। संयुक्त राज्य अमेरिका के मध्य-पश्चिम में स्थित आयोवा राज्य के एक किसान जो होरन के पास 300 हेक्टेयर भूमि है। वह अपने खेत में मक्का तब उगाता है जब वह आश्वस्त हो कि मृदा और जल संसाधन इस फ़सल की आवश्यकता को पूरा कर देंगे। फ़सल को नुकसान पहुँचाने वाले पीड़कों पर नियंत्रण के लिए पर्याप्त उपाय किए जाते हैं। समय-समय पर वह मृदा के नमूनों को मृदा परीक्षण प्रयोगशाला में जाँच के लिए भेजता है कि उसमें पर्याप्त पोषक हैं या नहीं। ये परिणाम जो होरन को वैज्ञानिक उर्वरक कार्यक्रम की योजना बनाने में मदद करते हैं। उसका कंप्यूटर उपग्रह से जुड़ा हुआ है जो उसे उसके खेत की यथार्थ तस्वीर देता है। यह रासायनिक उर्वरकों और पीड़कनाशकों का आवश्यकतानुसार प्रयोग करने में उसकी मदद करता है। वह ट्रैक्टरों, बीज बोने की मशीनों,



चित्र 3.16: संयुक्त राज्य अमेरिका का एक फार्म



चित्र 3.17: पीड़कनाशकों का छिड़काव





चित्र 3.18 : संयुक्त राज्य अमेरिका के फार्म में मशीनीकृत खेती

समतलक, संयुक्त हार्वेस्टर और थ्रेसर का उपयोग कृषि संबंधी विविध संक्रियाओं में करता है। अनाज स्वचालित अन्न भंडार में संचित किए जाते हैं अथवा बाज़ार अभिकरणों (मार्केट-एजेंसियों) में भेजे जाते हैं। संयुक्त राज्य अमेरिका में किसान एक व्यवसायी की तरह काम करता है न कि एक खेतिहर किसान की तरह।



### अभ्यास

#### 1. निम्नलिखित प्रश्नों के उत्तर दीजिए—

- कृषि क्या है?
- उन कारकों का नाम बताइए जो कृषि को प्रभावित कर रहे हैं।
- स्थानांतरी कृषि क्या है? इस कृषि की क्या हानियाँ हैं?
- रोपण कृषि क्या है?
- सरकार किसानों को कृषि के विकास में किस प्रकार मदद करती है?

#### 2. सही उत्तर को चिह्नित कीजिए—

- उद्यान कृषि का अर्थ है —  
(क) गेहूँ उगाना (ख) आदिम कृषि  
(ग) फलों व सब्जियों को उगाना
- 'सुनहरा रेशा' से अभिप्राय है—  
(क) चाय (ख) कपास (ग) पटसन
- कॉफी का प्रमुख उत्पादक है—  
(क) ब्राजील (ख) भारत (ग) रूस

#### 3. कारण बताइए—

- भारत में कृषि एक प्राथमिक क्रिया है।
- विभिन्न फ़सलें विभिन्न प्रदेशों में उगाई जाती हैं।

#### 4. अंतर स्पष्ट कीजिए—

- प्राथमिक क्रियाएँ और तृतीयक क्रियाएँ
- निर्वाह कृषि और गहन कृषि

#### 5. क्रियाकलाप—


- बाज़ार में उपलब्ध गेहूँ, चावल, ज्वार, बाजरा, रागी, मक्का, तिलहन और दलहन के बीजों को एकत्र कीजिए। उन्हें कक्षा में लाइए और पता लगाइए कि वे किस प्रकार की मृदा में उगते हैं?
- पत्रिकाओं, पुस्तकों, समाचारपत्रों और इंटरनेट से संगृहीत चित्रों के आधार पर संयुक्त राज्य अमेरिका और भारत के किसानों की जीवन शैली के मध्य अंतर पता कीजिए।



## 6. आओ खेलें-

शब्द पहेली को दिए संकेतों की मदद से हल कीजिए।

नोट : वर्ग पहेली के उत्तर अंग्रेजी के शब्दों में हैं।

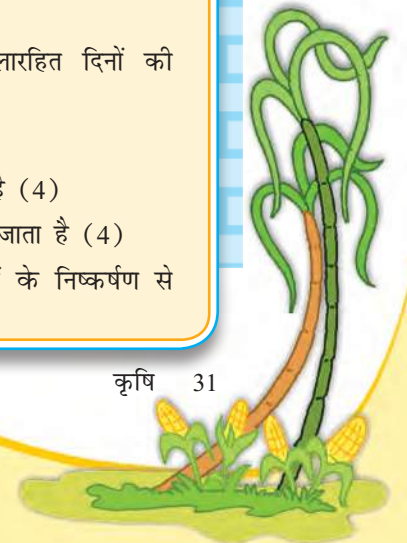


### बाएँ से दाएँ

1. फ़सल जिसे सु-अपवाहित उपजाऊ मृदा, मध्यम तापमान और तेज़ धूप की आवश्यकता होती है (5)
2. बीजों की उच्च उपज वाली किस्मों, रासायनिक उर्वरकों और पीड़कनाशकों के उपयोग से उत्पादन बढ़ाना (5, 10)
4. इस फ़सल के प्रमुख उत्पादक सं.रा.अ., कनाडा, रूस, आस्ट्रेलिया हैं (5)
10. पारिवारिक आवश्यकताओं को पूरा करने के लिए की जाने वाली कृषि का प्रकार (11)
13. विक्रय हेतु पशुपालन (9)
14. अंगूर की कृषि (11)

### ऊपर से नीचे

1. मोटे अनाज भी कहलाते हैं (7)
3. कृषि जिसमें कर्तन और दहन शामिल है (8)
5. फ़सलों, फलों और सब्जियों को उगाना (11)
6. जिसमें चाय, कॉफी, गन्ना और रबड़ उगाए जाते हैं (11)
7. विकास के लिए 210 पालारहित दिनों की आवश्यकता होती है (6)
8. फूलों का उगाना (12)
9. 'सुनहरा रेशा' भी कहलाता है (4)
11. 'धान' के नाम से भी जाना जाता है (4)
12. क्रिया जो प्राकृतिक संसाधनों के निष्कर्षण से संबंधित है (7)



## 4

## उद्योग



0859CH05



यात्रा आरंभ...



...कागज निर्माण...

...पुनःचक्रण...

क्या आपने कभी यह विचार किया है कि लिखने की अभ्यास पुस्तिका जो आप इस्तेमाल में लाते हैं, वह विनिर्माण की लंबी प्रक्रिया के बाद आपके पास पहुँचती है। इसके जीवन की शुरुआत वृक्ष से होती है। उसे काटा जाता है और लुगदी-मिल तक ले जाया जाता है। वहाँ वृक्षों की लकड़ी को संसाधित एवं काष्ठ-लुगदी में परिवर्तित किया जाता है। काष्ठ-लुगदी को रासायनिक द्रव्य के साथ मिलाया जाता है और अंततः मशीनों के द्वारा कागज के रूप में परिवर्तित किया जाता है। यह कागज प्रेस में जाता है जहाँ रसायनों से निर्मित स्याही का इस्तेमाल पृष्ठों पर रेखाएँ छापने में किया जाता है। इसके उपरांत पृष्ठों को अभ्यास पुस्तिका के रूप में बाँधकर व पैक करके बिक्री के लिए बाज़ार भेज दिया जाता है। अंत में यह आपके हाथों में पहुँचती है।

**द्वितीयक क्रियाकलाप** या **विनिर्माण** में कच्चे माल को लोगों के लिए अधिक मूल्य के उत्पादों के रूप में परिवर्तित किया जाता है, जैसा कि आपने देखा लुगदी कागज के रूप में और कागज अभ्यास पुस्तिका के रूप में। ये विनिर्माण प्रक्रिया के दो चरणों को प्रदर्शित करते हैं।

**उद्योग** का संबंध आर्थिक गतिविधि से है जो कि वस्तुओं के उत्पादन, खनिजों के निष्कर्षण अथवा सेवाओं की व्यवस्था से संबंधित है। इस प्रकार लोहा और इस्पात उद्योग वस्तुओं के उत्पादन से संबंधित है, कोयला खनन उद्योग कोयले को धरती से निकालने से संबंधित है तथा पर्यटन सेवा देने से संबंधित उद्योग है।

**क्रियाकलाप**

कपास के खेत से अपने घर तक अपनी कमीज़ की यात्रा का पता कीजिए।

**उद्योगों का वर्गीकरण**

उद्योगों का वर्गीकरण कच्चा माल, आकार और स्वामित्व के आधार पर किया जा सकता है।

**कच्चा माल** : कच्चे माल के उपयोग के आधार पर उद्योग कृषि आधारित, खनिज आधारित, समुद्र आधारित और वन आधारित हो सकते हैं।

कृषि आधारित उद्योग कच्चे माल के रूप में वनस्पति और जंतु आधारित उत्पादों का उपयोग करते हैं। खाद्य संसाधन, वनस्पति तेल, सूती वस्त्र, डेयरी उत्पाद और चर्म उद्योग कृषि आधारित उद्योगों के उदाहरण हैं। खनिज आधारित उद्योग प्राथमिक उद्योग हैं जो खनिज अयस्कों का उपयोग कच्चे माल के रूप में करते हैं। इन उद्योगों के उत्पाद अन्य उद्योगों का पोषण करते हैं। अयस्क से निर्मित लोहा खनिज आधारित उद्योग का उत्पाद है। यह कई अन्य उत्पादों के विनिर्माण के लिए कच्चे माल के रूप में प्रयुक्त किया जाता है जैसे भारी मशीनों, भवन निर्माण सामग्री तथा रेल के डिब्बे बनाने में। समुद्र आधारित उद्योग सागरों और महासागरों से प्राप्त उत्पादों का उपयोग कच्चे माल के रूप में करते हैं। समुद्री खाद्य प्रसंस्करण उद्योग और मत्स्य तेल निर्माण इसके कुछ उदाहरण हैं। वन आधारित उद्योग वनों से प्राप्त उत्पाद का उपयोग कच्चे माल के रूप में करते हैं। लुगदी एवं कागज, औषध रसायन, फर्नीचर और भवन निर्माण वनों से संबंधित उद्योग हैं।

**आकार :** उद्योग के आकार का तात्पर्य निवेश की गई पूँजी की राशि, नियोजित लोगों की संख्या और उत्पादन की मात्रा से है। आकार के आधार पर उद्योगों को दो भागों में बाँटा जा सकता है – लघु आकार के उद्योग और बृहत आकार के उद्योग। कुटीर या घरेलू उद्योग छोटे पैमाने के उद्योग हैं जिसमें दस्तकारों के द्वारा उत्पादों का निर्माण हाथ से होता है। टोकरी बुनाई, मिट्टी के बर्तन और अन्य हस्तनिर्मित वस्तुएँ कुटीर उद्योगों के उदाहरण हैं। बड़े पैमाने के उद्योग जो बड़ी मात्रा में वस्तुओं का उत्पादन करते हैं, उनकी तुलना में छोटे पैमाने के उद्योग कम पूँजी व प्रौद्योगिकी का उपयोग करते हैं। बड़े पैमाने के उद्योगों में पूँजी का निवेश अधिक और प्रयुक्त प्रौद्योगिकी उच्चस्तरीय होती है। रेशम बुनाई और खाद्य प्रक्रमण उद्योग लघु पैमाने के उद्योग हैं (चित्र 4.1)। ऑटोमोबाइल और भारी मशीनों का उत्पादन बड़े पैमाने के उद्योग हैं।


**स्वामित्व :** स्वामित्व के आधार पर उद्योगों को निजी क्षेत्र, राज्य स्वामित्व अथवा सार्वजनिक क्षेत्र, संयुक्त क्षेत्र और सहकारी क्षेत्र में वर्गीकृत किया जा सकता है। निजी क्षेत्र के उद्योगों का स्वामित्व और संचालन या तो एक व्यक्ति द्वारा या व्यक्तियों के समूह द्वारा किया जाता है। सार्वजनिक क्षेत्र के उद्योगों का स्वामित्व और संचालन सरकार द्वारा होता है जैसे हिंदुस्तान एरोनॉटिक्स लिमिटेड और स्टील ऑथॉरिटी ऑफ इंडिया लिमिटेड। संयुक्त क्षेत्र के उद्योगों का

### क्रियाकलाप

कृषि आधारित उद्योगों के कुछ उदाहरण दीजिए।



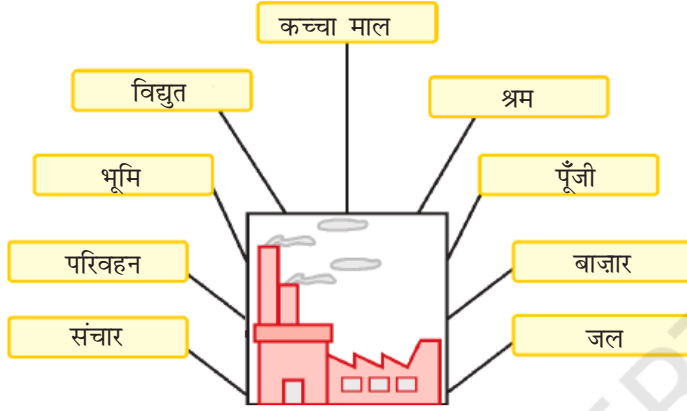
चित्र 4.1: मखाने के खाद्य प्रक्रमण की अवस्थाएँ





चित्र 4.2: सहकारी क्षेत्र में सुधा डेयरी

स्वामित्व और संचालन राज्यों और व्यक्तियों अथवा व्यक्तियों के समूह द्वारा होता है। मारुति उद्योग लिमिटेड संयुक्त क्षेत्र के उद्योग का एक उदाहरण है। सहकारी क्षेत्र के उद्योगों का स्वामित्व और संचालन कच्चे माल के उत्पादकों या पूर्तिकारों, कामगारों अथवा दोनों द्वारा होता है। आनंद मिल्क यूनियन लिमिटेड एवं सुधा डेयरी सहकारी उपक्रम के उत्तम उदाहरण हैं।



चित्र 4.3 : उद्योगों के अवस्थिति संबंधी कारक

## उद्योगों की अवस्थिति को प्रभावित करने वाले कारक

वे कारक जो उद्योगों की अवस्थिति को प्रभावित करते हैं, कच्चे माल की उपलब्धता, भूमि, जल, श्रम, शक्ति, पूँजी, परिवहन और बाज़ार हैं। उद्योग उन्हीं स्थानों पर केंद्रित होते हैं जहाँ इनमें से कुछ या ये सभी कारक आसानी से उपलब्ध होते हैं। कभी-कभी सरकार कम दाम पर विद्युत उपलब्धता, कम परिवहन लागत तथा अन्य अवसंरचना जैसे प्रोत्साहन प्रदान करती है ताकि पिछड़े क्षेत्रों में भी उद्योग स्थापित किया जा सके। औद्योगीकरण से प्रायः नगरों और शहरों का विकास एवं वृद्धि होती है।

## औद्योगिक तंत्र

औद्योगिक तंत्र में निवेश, प्रक्रम और निर्गत शामिल हैं। निवेश में कच्चे माल, श्रम और भूमि की लागत, जल की उपलब्धता, परिवहन, विद्युत और अन्य अवसंरचना शामिल हैं। प्रक्रम में कई तरह के क्रियाकलाप शामिल हैं जो कच्चे माल को परिष्कृत माल में परिवर्तित करते हैं। निर्गत अंतिम उत्पाद और इससे अर्जित आय है। सूती वस्त्र उद्योग के संदर्भ में कपास, मानव श्रम, कारखाना और परिवहन लागत निवेश हो सकते हैं। प्रक्रमों में ओटाई, कटाई, बुनाई, रँगाई और छपाई शामिल है। कमीज़ जिसे आप पहनते हैं वह उत्पादन है।

### क्रियाकलाप

चमड़े के जूते के विनिर्माण में शामिल निवेश, प्रक्रम और निर्गत को ज्ञात करें।

## औद्योगिक प्रदेश

औद्योगिक प्रदेश का विकास तब होता है जब कई तरह के उद्योग एक-दूसरे के निकट स्थित होते हैं और वे अपनी निकटता के लाभ आपस में बाँटते हैं। विश्व के प्रमुख औद्योगिक प्रदेश पूर्वोत्तर अमेरिका, पश्चिमी और मध्य यूरोप, पूर्वी यूरोप और पूर्वी एशिया हैं। मुख्य औद्योगिक प्रदेश अधिकांशतः शीतोष्ण कटिबंधीय क्षेत्रों, समुद्री पत्तनों के समीप और विशेष तौर पर कोयला क्षेत्रों के निकट स्थित होते हैं।



चित्र 4.4 : विश्व – औद्योगिक प्रदेश

भारत में अनेक औद्योगिक प्रदेश हैं, जैसे मुंबई-पुणे समूह, बंगलौर, तमिलनाडु प्रदेश, हुगली प्रदेश, अहमदाबाद-वडोदरा प्रदेश, छोटानागपुर औद्योगिक प्रदेश, विशाखापट्टनम – गुंटूर औद्योगिक प्रदेश, गुडगाँव-दिल्ली-मेरठ औद्योगिक प्रदेश और कोल्लम-तिरुवनंतपुरम औद्योगिक प्रदेश।

### औद्योगिक विपदा

उद्योगों में दुर्घटना/विपदा मुख्य रूप से तकनीकी विफलता या संकट उत्पन्न करने वाले पदार्थों के बेतरतीब उपयोग के कारण घटित होती है। भोपाल में 3 दिसंबर 1984 को लगभग 00.30 बजे घटित, अब तक की सबसे त्रासदपूर्ण औद्योगिक दुर्घटना है। यह एक प्रौद्योगिकीय दुर्घटना थी जिसमें यूनियन कार्बाइड के कीटनाशी कारखाने से हाइड्रोजन सायनाइड तथा प्रतिक्रियाशील उत्पादों के साथ-साथ अत्यंत विषैली मिथाइल आइसोसायनेट (एम.आई.सी.) गैस का रिसाव हुआ था। 1989 में सरकारी सूचना के अनुसार 35,598 व्यक्तियों की मृत्यु हो गई थी। हजारों लोग जो बच गए वो आज भी एक या अधिक बीमारियों जैसे अंधापन, प्रतिरक्षा तंत्र विकृति, आंत्रशोथ विकृतियों आदि से पीड़ित हैं।



यूनियन कार्बाइड फैक्ट्री

उद्योग 35

23 दिसंबर 2005 में चीन के गाओ कायो, चोंगगिंग में गैस कूप विस्फोट से 243 लोगों की मृत्यु तथा 9000 लोग दुर्घटनाग्रस्त हो गए थे और इन स्थानों से 64,000 लोगों को विस्थापित किया गया था। कई लोग विस्फोट के बाद न भाग सकने के कारण मर गए। वे जो समय पर भाग पाए उनकी आँखें, त्वचा और फेफड़े गैस से क्षतिग्रस्त हो गए थे।



गाओ कायो में बचाव अभियान

### जोखिम कम करने के उपाय

1. घने बसे आवासीय क्षेत्रों को औद्योगिक क्षेत्रों से अलग बहुत दूर रखा जाना चाहिए।
2. उद्योगों के समीप बसने वाले लोगों को दुर्घटना होने की स्थिति में विषैले या खतरनाक पदार्थों के संग्रहण और उनके संभव प्रभावों का ज्ञान होना चाहिए।
3. आग की चेतावनी और अग्निशमन की व्यवस्था को उन्नत किया जाना चाहिए।
4. विषैले पदार्थों के भंडारण क्षमता की सीमा होनी चाहिए।
5. उद्योगों में प्रदूषण नियंत्रण के उपाय को उन्नत किया जाना चाहिए।

### क्या आप जानते हैं?

उभरते हुए उद्योग 'सनराइज उद्योग' के नाम से भी जाने जाते हैं। इसमें सूचना प्रौद्योगिकी, स्वास्थ्य लाभ, सत्कार तथा ज्ञान से संबंधित उद्योग शामिल हैं।



### प्रमुख उद्योगों का वितरण

विश्व के प्रमुख उद्योग लोहा-इस्पात उद्योग, सूती वस्त्र उद्योग और सूचना प्रौद्योगिकी उद्योग हैं। लोहा-इस्पात उद्योग और वस्त्र उद्योग काफ़ी पुराने उद्योग हैं जबकि सूचना प्रौद्योगिकी उद्योग एक नया उभरता उद्योग है। वे देश जिसमें लोहा-इस्पात उद्योग अवस्थित हैं, जर्मनी, संयुक्त राज्य अमेरिका, चीन, जापान और रूस है। वस्त्र उद्योग भारत, हांगकांग, दक्षिण कोरिया, जापान और ताइवान में संकेंद्रित है। सूचना प्रौद्योगिकी उद्योग के मुख्य केंद्र मध्यवर्ती कैलिफोर्निया के सिलिकॉन घाटी में और भारत के बंगलुरु प्रदेश में हैं।

### लोहा-इस्पात उद्योग

अन्य उद्योगों की तरह लोहा-इस्पात उद्योग में भी बहुत से निवेश, प्रक्रम और निर्गत शामिल हैं। यह एक पोषक उद्योग है जिसके उत्पाद अन्य उद्योगों के लिए कच्चे माल के रूप में प्रयुक्त होते हैं। उद्योग के लिए निवेश में श्रम, पूँजी, स्थान और अन्य अवसंरचना के साथ-साथ लौह-अयस्क, कोयला और चूना-पत्थर कच्चे माल के रूप में सम्मिलित हैं। लौह-अयस्क से इस्पात निर्माण की प्रक्रिया में कई चरण शामिल हैं। कच्चे माल को झोंका भट्टी में रखा जाता है जहाँ यह प्रगलित होता है (चित्र 4.6)। इसके बाद यह परिशोधित होता है। प्राप्त उत्पाद इस्पात होता है जो अन्य उद्योगों में कच्चे माल के रूप में प्रयुक्त किया जा सकता है।

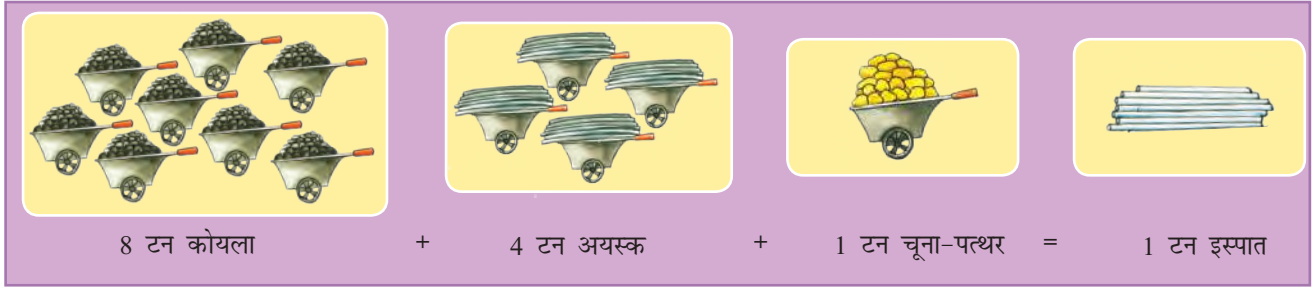
इस्पात कड़ा होता है और इसे आसानी से काटा और आकार दिया जा सकता है अथवा इससे तार बनाए जा सकते हैं। ऐलुमिनियम, निकल, तांबा

### शब्दावली

#### प्रगलन

यह एक ऐसी प्रक्रिया है जिसमें धातुओं को उसके अयस्कों द्वारा गलनांक बिंदु से अधिक तपाकर निष्कर्षित किया जाता है।





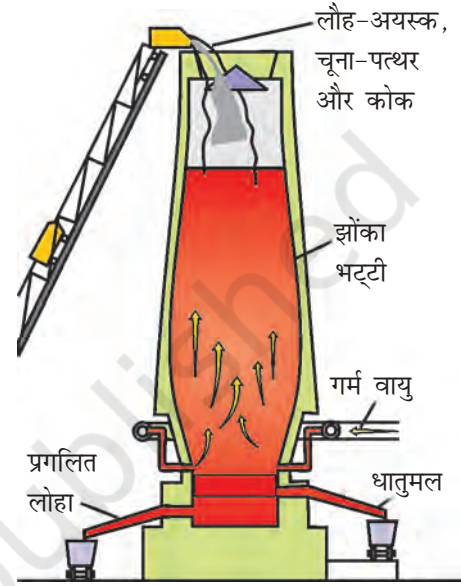
चित्र 4.5 : इस्पात उत्पादन

जैसी अन्य धातुओं को थोड़ी-थोड़ी मात्रा में इस्पात में मिलाकर इसकी मिश्र धातुएँ बनाई जा सकती हैं। मिश्र धातु इस्पात को असामान्य कठोरता, दृढ़ता और जंग प्रतिरोधक क्षमता प्रदान करती है।

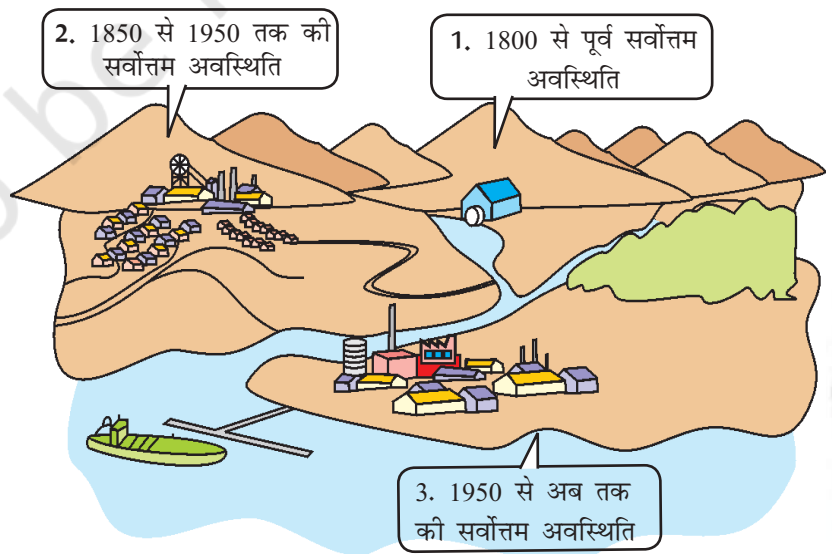
इस्पात प्रायः आधुनिक उद्योगों का मेरुदंड कहलाता है। लगभग सारी वस्तुएँ जिनका हम लोग उपभोग करते हैं वे या तो लोहा या इस्पात से बने हैं अथवा इन धातुओं से निर्मित औजारों और मशीनों से बने हैं। पोत, रेलगाड़ी, ट्रक और ऑटो अधिकांशतः इस्पात से बने हैं। यहाँ तक कि सेफ्टी पिन और सुईयाँ, जिनका उपयोग आप करते हैं वे भी इस्पात से बनती हैं। तेल-कूप इस्पात से बनी मशीनों से बेधित किए जाते हैं। इस्पात की पाइपलाइन से तेल परिवहित किया जाता है। खनिजों का खनन इस्पात के उपकरणों से होता है। कृषि के यंत्र प्रायः इस्पात के बने होते हैं। विशाल भवनों का ढाँचा इस्पात का बनाया जाता है। 1800 ई. के पूर्व इस्पात उद्योग वहाँ स्थित थे

जहाँ कच्चा माल, विद्युत आपूर्ति और बहता जल आसानी से उपलब्ध थे। बाद में उद्योग के लिए आदर्श स्थिति कोयला क्षेत्र के समीप, नहरों और रेलवे के निकट थी। 1950 के बाद लोहा और इस्पात उद्योग समुद्रपत्तन के निकट सपाट भूमि के विशाल क्षेत्रों में केंद्रित होने शुरू हुए। ऐसा इसलिए हुआ क्योंकि इस्पात निर्माण का कार्य इस समय तक बहुत विशाल हो गया और लौह-अयस्क विदेशों से आयात करना पड़ता था।

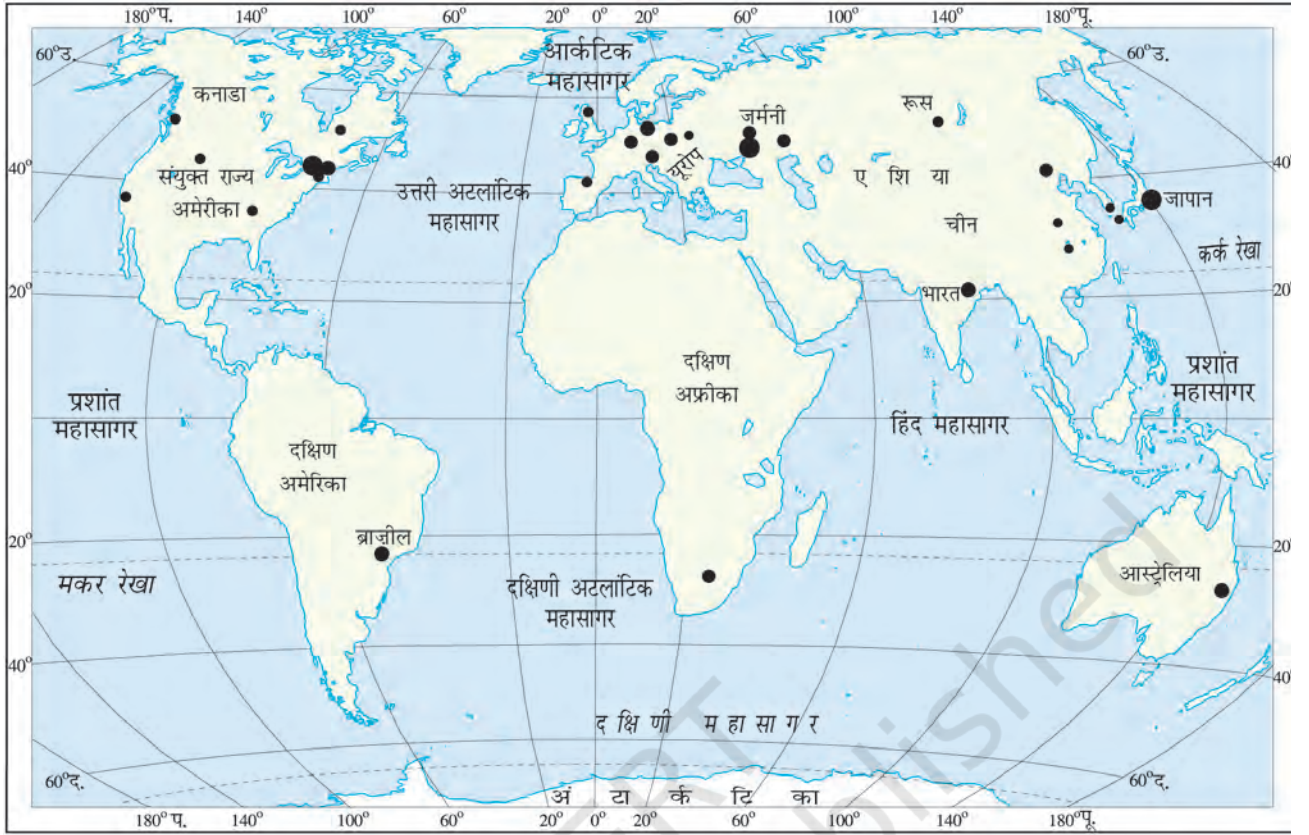
भारत में लोहा-इस्पात उद्योग कच्चा माल, सस्ते श्रमिक, परिवहन और बाजार



चित्र 4.6 : झोंका भट्टी में लौह-अयस्क से इस्पात तक



चित्र 4.7: लौह-इस्पात उद्योग की परिवर्तनशील अवस्थिति

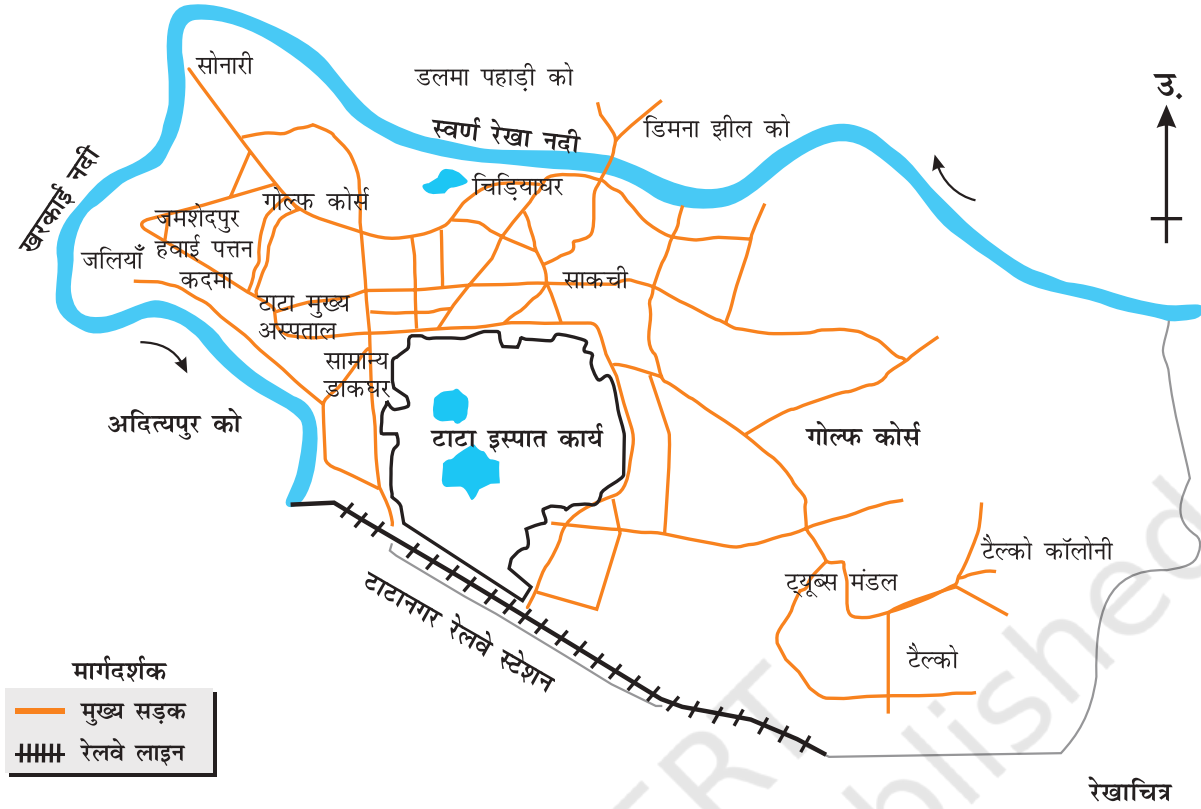


चित्र 4.8: विश्व – प्रमुख लोहा-इस्पात उत्पादन के क्षेत्र

का लाभ लेते हुए विकसित हुए। सभी महत्वपूर्ण इस्पात उत्पादक केंद्र, जैसे भिलाई, दुर्गापुर, बर्नपुर, जमशेदपुर, राउरकेला, बोकारो एक ही प्रदेश में स्थित हैं जो चार राज्यों में फैले हैं। वे चार राज्य हैं – पश्चिम बंगाल, झारखंड, ओडिशा और छत्तीसगढ़। भद्रावती और विजयनगर कर्नाटक में, विशाखापट्टनम आंध्र प्रदेश में, सलेम तमिलनाडु में अन्य महत्वपूर्ण इस्पात के केंद्र हैं जो स्थानीय संसाधनों का उपयोग कर रहे हैं।

**जमशेदपुर:** 1947 से पूर्व भारत में केवल एक इस्पात का कारखाना था – टाटा आयरन एंड स्टील कंपनी लिमिटेड (टिस्को)। यह निजी स्वामित्व में था। स्वतंत्रता के पश्चात् सरकार ने यह कार्य अपने हाथ में लिया और बहुत से लोहा-इस्पात संयंत्र स्थापित किए। झारखंड में स्वर्णरेखा और खरकई नदियों के संगम के समीप साकची में सन् 1907 में टिस्को की शुरुआत की गई थी। बाद में साकची का नाम बदल कर जमशेदपुर रखा गया। भौगोलिक रूप से जमशेदपुर, देश में लोहा-इस्पात केंद्र के रूप में सर्वाधिक सुविधाजनक स्थान पर है।





चित्र 4.9 : जमशेदपुर में लोहा-इस्पात उद्योग की अवस्थिति

साकची को कई कारणों से इस्पात संयंत्र स्थापित करने के लिए चुना गया। यह स्थान बंगाल-नागपुर रेलमार्ग पर कालीमाटी स्टेशन से मात्र 32 किमी. की दूरी पर था। यह स्थान लौह-अयस्क, कोयला और मैंगनीज निक्षेपों के साथ-साथ कोलकाता के निकट भी था, जहाँ विशाल बाजार उपलब्ध था। टिस्को को झरिया कोयला क्षेत्रों से कोयला और ओडिशा तथा छत्तीसगढ़ से लौह-अयस्क, चूना-पत्थर, डोलोमाइट और मैंगनीज प्राप्त होता है। खरकई और स्वर्ण रेखा नदियों से पर्याप्त जल की आपूर्ति होती है। सरकारी प्रोत्साहनों से इसे पर्याप्त पूँजी उपलब्ध हुई।

जमशेदपुर में टिस्को की स्थापना के बाद कई अन्य औद्योगिक संयंत्र स्थापित किए गए। इनमें रसायन, इंजनों के पुर्जे, कृषि उपकरण, मशीनें, टिन की चादरें, केबल और तार का उत्पादन किया जाता है।

भारत में लोहा-इस्पात उद्योग के विकास से त्वरित औद्योगिक विकास आरंभ हुआ। भारतीय उद्योग के लगभग सभी क्षेत्र अधिकांशतः अपने आधारभूत अवसंरचना के लिए लोहा-इस्पात उद्योग पर निर्भर हैं। भारतीय लोहा-इस्पात उद्योग में बृहत् समाकलित इस्पात संयंत्रों के साथ-साथ लघु

### आओ कुछ करके सीखें

एटलस की सहायता से भारत के कुछ लोहा-इस्पात उद्योग खोजें एवं भारत के रूपरेखा मानचित्र पर उनकी स्थिति चिह्नित करें।

इस्पात मिल भी सम्मिलित हैं। इसमें द्वितीयक उत्पादक, रॉलिंग मिल और सहायक उद्योग भी शामिल हैं।

**पिट्सबर्ग:** यह संयुक्त राज्य अमेरिका का एक महत्वपूर्ण इस्पात नगर है। पिट्सबर्ग के इस्पात उद्योग को स्थानीय सुविधाएँ उपलब्ध हैं। कच्चा माल जैसे कोयला पिट्सबर्ग में ही उपलब्ध है जबकि लौह-अयस्क मिनेसोटा की लोहे की खानों से प्राप्त होता है जो पिट्सबर्ग से लगभग 1500 किमी. दूर है। इन खानों और पिट्सबर्ग के बीच नौपरिवहन का सर्वोत्तम मार्ग, ग्रेट लेक्स जलमार्ग, आता है। यह अयस्क के नौपरिवहन हेतु सस्ता मार्ग है। ग्रेट लेक्स से पिट्सबर्ग क्षेत्र तक लौह-अयस्क रेलगाड़ियों से लाया जाता है। ओहियो, मोनोगहेला और एल्घनी नदियों से पर्याप्त जल प्राप्त होता है।

आज पिट्सबर्ग में बहुत कम बड़ी इस्पात मिल हैं। ये मिल पिट्सबर्ग के ऊपर मोनोगहेला और एल्घनी नदी की घाटियों में तथा पिट्सबर्ग के नीचे ओहियो नदी के सहारे स्थित है। परिष्कृत इस्पात स्थल और जल दोनों मार्गों द्वारा बाजार में भेजा जाता है।

पिट्सबर्ग क्षेत्र में इस्पात मिलों के अतिरिक्त कई अन्य कारखाने हैं। ये रेल, रेल पटरी उपकरण और भारी मशीनों के उत्पादन में इस्पात का प्रयोग कच्चे माल के रूप में करते हैं।

### क्या आप जानते हैं?



ग्रेट लेक्स के नाम सुपीरियर, ह्यूरॉन, ऑंटारियो, मिशीगन और ईरी हैं। इन पाँचों झीलों में से सुपीरियर झील सबसे बड़ी है जो अन्य की तुलना में उच्च ऊर्ध्वप्रवाह पर स्थित है।



### अभ्यास

#### 1. निम्नलिखित प्रश्नों के उत्तर दीजिए -

- 'उद्योग' शब्द का क्या तात्पर्य है?
- वे कौन-से मुख्य तथ्य हैं जो उद्योग की अवस्थिति को प्रभावित करते हैं?
- कौन-सा उद्योग प्रायः आधुनिक उद्योग का मेरुदंड कहा जाता है और क्यों?

#### 2. अंतर स्पष्ट कीजिए-

- कृषि आधारित और खनिज आधारित उद्योग
- सार्वजनिक क्षेत्र और संयुक्त क्षेत्र के उद्योग

### 3. दिए गए स्थानों में निम्नलिखित के दो-दो उदाहरण दीजिए-

- (i) कच्चा माल : ..... और .....
- (ii) अंतिम उत्पाद : ..... और .....
- (iii) तृतीयक क्रियाकलाप : ..... और .....
- (iv) कृषि-आधारित उद्योग : .....और .....
- (v) कुटीर उद्योग : .....और .....
- (vi) सहकारिता : .....और .....

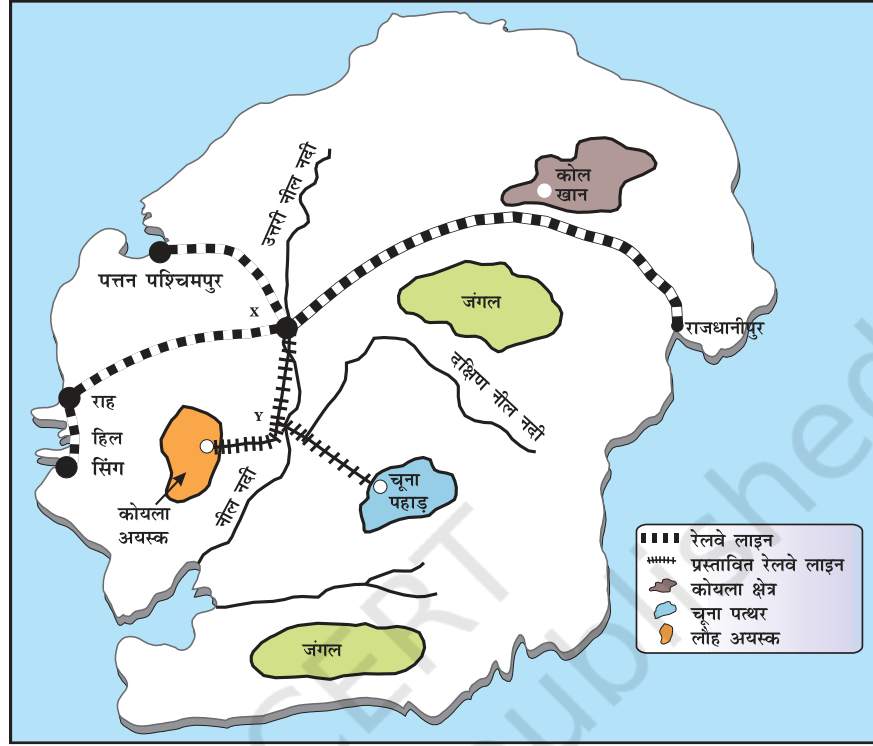
### 4. क्रियाकलाप

उद्योग स्थापित करने के लिए अवस्थिति की पहचान कैसे की जाए-

अपनी कक्षा को समूह में बाँटें। प्रत्येक समूह, निदेशकमंडल है जिसने देवलोपन द्वीप में लोहा-इस्पात उद्योग के लिए उपयुक्त स्थान चयन करना है। तकनीकी विशेषज्ञों के एक दल ने टिप्पणी और मानचित्र के साथ एक रिपोर्ट प्रस्तुत की है। दल ने लौह-अयस्क, कोयला, जल और चूना-पत्थर के साथ-साथ मुख्य बाज़ार, श्रमिकों के स्रोत और पत्तन सुविधाओं की पहुँच पर विचार किया। दल ने X और Y दो स्थानों का सुझाव दिया। निदेशकमंडल को अंतिम निर्णय लेना है कि इस्पात उद्योग को कहाँ स्थापित करना है।

- दल द्वारा प्रस्तुत रिपोर्ट पढ़ें।
- प्रत्येक स्थान से संसाधनों की दूरियाँ ज्ञात करने के लिए मानचित्र का अध्ययन करें।
- संसाधनों की महत्ता के अनुसार इनमें से प्रत्येक संसाधन को 1 से 10 तक महत्त्व अनुसार अंक दें। एक संसाधन का उद्योगों की तरफ़ जितना ही अधिक अभिकर्षण होगा उतना ही अधिक 1 से 10 तक के बीच उसका महत्त्व होगा।
- अगले पृष्ठ पर दी गई सारणी को पूरा करें।
- न्यूनतम लागत वाला स्थान सर्वाधिक उपयुक्त स्थान होना चाहिए।
- याद रखें प्रत्येक निदेशकमंडल अलग तरह से निर्णय ले सकते हैं।





### रिपोर्ट

देवलपन द्वीप पर प्रस्तावित लौह-इस्पात संयंत्र की अवस्थिति को प्रभावित करने वाले कारक/संसाधन।

- **लौह-अयस्क:** यह निम्न श्रेणी के लौह-अयस्क का सबसे बड़ा निक्षेप है। अयस्क का लंबी दूरी तक परिवहन अनार्थिक होगा।
- **कोयला:** एकमात्र कोयला क्षेत्र जिसमें उच्च श्रेणी के कोयले के विशाल निक्षेप हैं। रेलमार्ग से कोयले का परिवहन, तुलनात्मक रूप से सस्ता है।
- **चूना-पत्थर:** यह द्वीप में प्रचुरता से उपलब्ध है लेकिन शुद्धतम निक्षेप चूना पर्वत में है।
- **जल:** नील नदी की दोनों सहायक नदियाँ प्रचुर मात्रा में हर मौसम में बड़े लौह-इस्पात संयंत्र को जल उपलब्ध कराती हैं। समुद्र का जल अधिक लवणीय होने के कारण अनुपयुक्त है।
- **बाजार:** यह अनुमान किया जाता है कि उद्योग के उत्पाद का मुख्य बाजार राजधानीपुर का इंजीनियरिंग कारखाना होगा। उत्पाद, मुख्यतः लघु इस्पात की छड़ों और हल्की इस्पात चादरों की परिवहन लागत सापेक्षतः कम होगी।

- **श्रम की आपूर्ति:** हिल, राह और सिंग मछुआरों की तीन बस्तियों से अकुशल कामगारों की भर्ती की जाएगी। यह अनुमानित किया जाता है कि अधिकांश श्रमिक अपने वर्तमान आवास से प्रतिदिन आने-जाने का काम करेंगे।
- **पत्तन की सुविधाएँ:** इस समय न्यूनतम हैं। पत्तन पश्चिमपुर अच्छा, गहरा और प्राकृतिक पोताश्रय है जो मिश्रातु के आयात के लिए विकसित किया गया है।

संसाधन	X से दूरी	Y से दूरी	अंक 1-10*	X दूरी X स्थान के लिए अंक	X दूरी Y स्थान के लिए अंक
लौह-अयस्क					
कोयला					
चूना-पत्थर					
जल					
मुख्य बाजार					
श्रम आपूर्ति					
			कुल =		

\* जितना अधिक अभिकर्षण, उतने अधिक अंक।



## 5

## मानव संसाधन



0859CH06

लोग ही एक राष्ट्र के सबसे बड़े संसाधन होते हैं। प्रकृति की देन केवल उस समय महत्वपूर्ण होती है जब वह लोगों के लिए उपयोगी होती है। लोग अपनी आवश्यकताओं और योग्यताओं से उसे संसाधन में परिवर्तित कर देते हैं। इस प्रकार मानव संसाधन ही अंतिम संसाधन है। स्वस्थ, शिक्षित और अभिप्रेरित लोग अपनी आवश्यकताओं के अनुरूप संसाधनों का विकास करते हैं।

अन्य संसाधनों की भाँति मानव संसाधन विश्व में समान रूप से वितरित नहीं है। अपने शैक्षिक स्तर, आयु और लिंग में वे एक-दूसरे से भिन्न हैं। उनकी संख्या और लक्षण भी बदलते रहते हैं।

## क्या आप जानते हैं?

प्रधानमंत्री कौशल विकास योजना (पीकेवीवाई) को 2015 में एक करोड़ भारतीय युवाओं को 2016 से 2020 तक प्रशिक्षित करने के उद्देश्य से शुरू किया गया था। इस योजना का उद्देश्य संभाव्य और मौजूदा रोजगार अर्जक को गुणवत्ता प्रशिक्षण प्रदान करके रोजगार योग्य कौशल की योग्यता को प्रोत्साहित करना है।



मेरे विद्यालय में 500 बच्चे हैं।

मेरे गाँव में 1000 लोग हैं।

आपके विचार से विश्व में कितने लोग हैं?

मेरी कक्षा में 30 बच्चे हैं।

विश्व में लगभग 6.6 अरब लोग हैं।

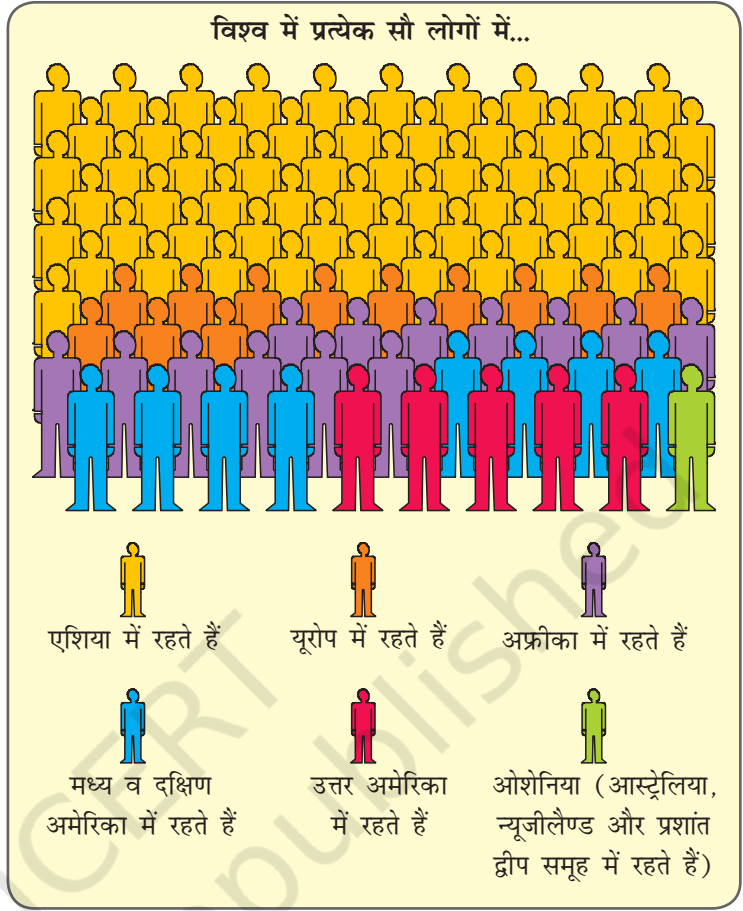
एक अरब में कितने शून्य होते हैं? इस संख्या को आप कैसे लिखेंगे?

## जनसंख्या का वितरण

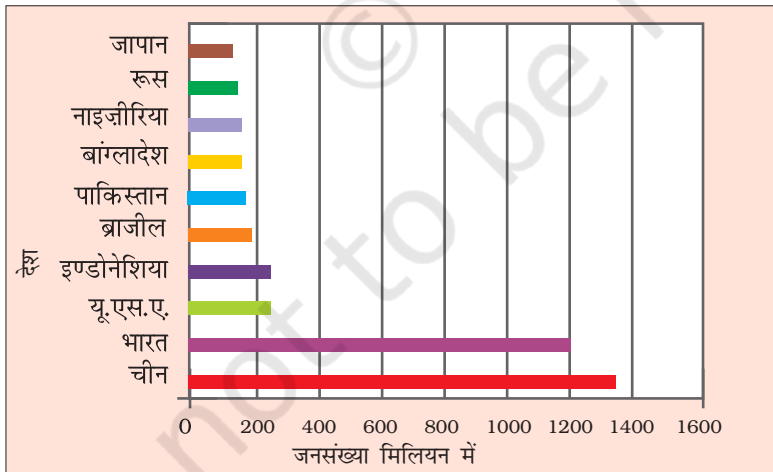
भूपृष्ठ पर जिस प्रकार लोग फैले हैं, उसे **जनसंख्या वितरण का प्रतिरूप** कहते हैं। विश्व की जनसंख्या का 90 प्रतिशत से अधिक भाग भूपृष्ठ के लगभग 30 प्रतिशत भाग पर निवास करता है। विश्व में जनसंख्या का वितरण अत्यंत असमान है। कुछ क्षेत्र बहुत घने बसे हैं और कुछ विरल बसे क्षेत्र हैं।

दक्षिण और दक्षिण-पूर्वी एशिया, यूरोप और उत्तर-पूर्वी उत्तर अमेरिका घने बसे क्षेत्र हैं। उच्च अक्षांशीय क्षेत्रों, उष्णकटिबंधीय मरुस्थलों, उच्च पर्वतों और विषुवतीय वनों के क्षेत्रों में बहुत कम लोग रहते हैं।

विषुवत वृत्त के दक्षिण की अपेक्षा विषुवत वृत्त के उत्तर में बहुत अधिक लोग रहते हैं। विश्व की कुल जनसंख्या के लगभग तीन-चौथाई लोग दो महाद्वीपों एशिया और अफ्रीका में रहते हैं। विश्व के 60 प्रतिशत लोग केवल दस देशों में रहते हैं। इन सभी देशों में 10 करोड़ से अधिक लोग रहते हैं।



चित्र 5.1 : महाद्वीपों के अनुसार विश्व जनसंख्या



चित्र 5.2 : विश्व की घनी आबादी वाले देश  
विश्व के रूपरेखा मानचित्र पर इन देशों को चिह्नित करें।

स्रोत : भारत की जनगणना, 2011, अस्थायी जनसंख्या आंकड़े, भारत शृंखला 1, पेपर 1, 2011

### क्रियाकलाप

चित्र 5.1 का अध्ययन कीजिए और खोजिए: विश्व की कुल जनसंख्या में से किस महाद्वीप में निम्न के अनुसार जनसंख्या है—

(क) केवल 5 प्रतिशत  
(ख) केवल 13 प्रतिशत  
(ग) केवल 1 प्रतिशत  
(घ) केवल 12 प्रतिशत

### क्या आप जानते हैं?

भारत की जनसंख्या का औसत घनत्व 382 व्यक्ति प्रति वर्ग किलोमीटर है।



## जनसंख्या का घनत्व

पृथ्वी पृष्ठ के एक इकाई क्षेत्र में रहने वाले लोगों की संख्या को जनसंख्या का घनत्व कहते हैं। सामान्य रूप से यह प्रतिवर्ग किलोमीटर में व्यक्त किया जाता है। संपूर्ण विश्व का औसत जनसंख्या घनत्व 51 व्यक्ति प्रति वर्ग किलोमीटर है। सबसे अधिक जनसंख्या घनत्व दक्षिण मध्य एशिया में है, इसके पश्चात क्रमशः पूर्वी एशिया एवं दक्षिण-पूर्वी एशिया में है।

जब कक्षा के पूरे 30 विद्यार्थी उपस्थित होते हैं तब हमारी कक्षा बहुत भरी हुई दिखती है, लेकिन जब यही विद्यार्थी स्कूल के सभा भवन में बैठते हैं तब वह कक्षा खुला और खाली दिखाई पड़ता है। क्यों?



क्योंकि सभा भवन का आकार या क्षेत्र कक्षा से बड़ा होता है। लेकिन जब स्कूल के सभी विद्यार्थी सभा भवन में आ जाते हैं तब सभा भवन भी भरा हुआ दिखने लगता है।

## जनसंख्या वितरण को प्रभावित करने वाले कारक

### भौगोलिक कारक

**स्थलाकृति :** लोग सदैव पर्वतों और पठारों की तुलना में मैदानी भागों में ही रहना पसंद करते हैं क्योंकि ये क्षेत्र खेती, विनिर्माण और सेवा क्रियाओं के लिए उपयुक्त होते हैं। गंगा के मैदान विश्व के सबसे अधिक घने बसे क्षेत्र हैं जबकि एंडीज़, आल्पस और हिमालय जैसे पर्वत विरल बसे हुए हैं।

**जलवायु :** लोग सामान्य रूप से चरम जलवायु जो अत्यधिक गरम अथवा अत्यधिक ठंडी जैसे सहारा मरुस्थल, रूस के ध्रुवीय प्रदेश, कनाडा और अंटार्कटिक में रहने से बचते हैं।

**मृदा :** उपजाऊ मृदाएँ कृषि के लिए उपयुक्त भूमि प्रदान करती हैं। भारत में गंगा और ब्रह्मपुत्र, चीन में ह्वांग-ही, चांग जियांग तथा मिस्र में नील नदी के उपजाऊ मैदान घने बसे हुए क्षेत्र हैं।

**जल :** लोग उन क्षेत्रों में रहने को प्राथमिकता देते हैं जहाँ अलवणीय जल आसानी से उपलब्ध होता है। विश्व की नदी घाटियाँ घने बसे क्षेत्र हैं जबकि मरुस्थल विरल जनसंख्या वाले हैं।

**खनिज :** खनिज निक्षेपों वाले क्षेत्र अधिक बसे हुए हैं। दक्षिणी अफ्रीका की हीरे की खानें और मध्य पूर्व में तेल की खोज ने इन क्षेत्रों में लोगों को रहने के लिए प्रेरित किया है।

### क्रियाकलाप

चित्र 5.2 को देखें एवं पता लगाएँ कि इनमें से कितने देश एशिया में हैं? संसार के मानचित्र पर उन्हें विभिन्न रंगों से चिह्नित करें।





## सामाजिक, सांस्कृतिक और आर्थिक कारक

**आर्थिक कारक :** औद्योगिक क्षेत्र रोजगार के अवसर प्रदान करते हैं। लोग बड़ी संख्या में इन क्षेत्रों की ओर आकर्षित होते हैं। जापान में ओसाका और भारत में मुंबई दो घने बसे क्षेत्र हैं।

**सांस्कृतिक कारक :** धर्म और सांस्कृतिक महत्ता वाले स्थान लोगों को आकर्षित करते हैं। वाराणसी, येरूसलम और वेटिकन सिटी इसके कुछ उदाहरण हैं।

**सामाजिक कारक :** अच्छे आवास, शिक्षा और स्वास्थ्य सुविधाओं के क्षेत्र अत्यधिक घने बसे हैं, उदाहरण के लिए पुणे।

## जनसंख्या परिवर्तन

जनसंख्या परिवर्तन से तात्पर्य एक निश्चित अवधि के दौरान लोगों की संख्या में परिवर्तन से है। विश्व की जनसंख्या स्थिर नहीं रही है। यह कई गुना बढ़ गई है जैसा चित्र 6.3 में दिखाया गया है। क्यों? ऐसा वास्तव में जन्म और मृत्यु की संख्या में परिवर्तन के कारण हुआ है। मानव इतिहास की लंबी अवधि में, सन् 1800 तक विश्व की जनसंख्या धीरे-धीरे बढ़ी है। बड़ी संख्या में बच्चे जन्म लेते थे लेकिन शीघ्र ही उनकी मृत्यु भी हो जाती थी। ऐसा इसलिए था क्योंकि वहाँ उचित स्वास्थ्य सुविधाएँ नहीं थी। सभी लोगों के लिए पर्याप्त भोजन उपलब्ध नहीं था। किसान सभी लोगों की भोजन की आवश्यकताओं को पूरा करने के लिए पर्याप्त उत्पादन करने में सक्षम नहीं थे। इसके परिणामस्वरूप जनसंख्या में वृद्धि बहुत कम थी।

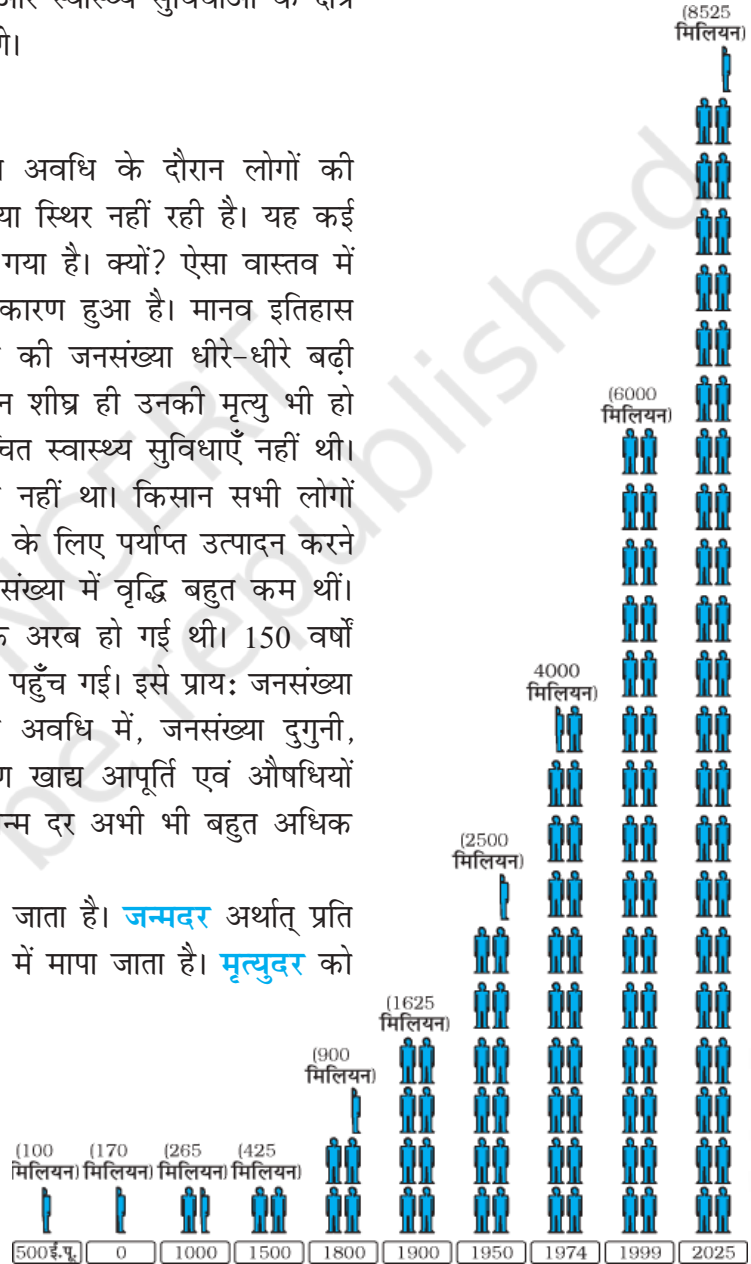
सन् 1804 में, विश्व की जनसंख्या एक अरब हो गई थी। 150 वर्षों बाद, 1959 में विश्व की जनसंख्या 3 अरब पहुँच गई। इसे प्रायः जनसंख्या विस्फोट कहते हैं। 1999 में, 40 वर्ष की अवधि में, जनसंख्या दुगुनी, 6 अरब हो गई। इस वृद्धि का मुख्य कारण खाद्य आपूर्ति एवं औषधियों के कारण मृत्यु दर कम होना है। जबकि जन्म दर अभी भी बहुत अधिक रही।

जन्मों को साधारणतः जन्म दर में आँका जाता है। **जन्मदर** अर्थात् प्रति 1000 व्यक्तियों पर जीवित जन्मों की संख्या में मापा जाता है। **मृत्युदर** को प्रति 1000 व्यक्तियों पर मृतकों की संख्या में मापा जाता है। किसी क्षेत्र विशेष में लोगों के आने-जाने को **प्रवास** कहते हैं।


जन्म और मृत्यु जनसंख्या परिवर्तन के प्राकृतिक कारण हैं। एक देश के जन्म दर और मृत्यु दर के बीच के अंतर को **प्राकृतिक वृद्धि दर** कहते हैं। विश्व में

### शब्दावली


**जीवन प्रत्याशा**  
यह उन वर्षों की संख्या है जिसमें औसत व्यक्ति के जीवित रहने की आशा की जा सकती है।



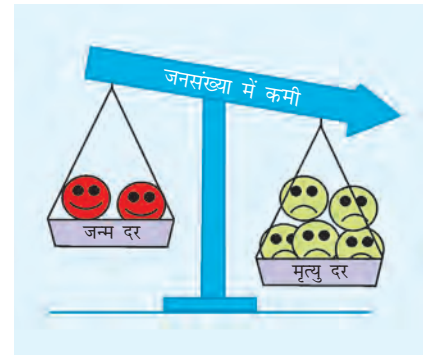
चित्र 5.3 : विश्व जनसंख्या वृद्धि



मृत्यु दर से जन्म दर का अधिक होना : जनसंख्या वृद्धि



जन्म दर और मृत्यु दर का समान होना : जनसंख्या एक जैसी रहती है



जन्म दर से मृत्यु दर का अधिक होना : जनसंख्या कम होना

चित्र 5.4 : जनसंख्या का संतुलन

जनसंख्या के बढ़ने का मुख्य कारण प्राकृतिक वृद्धि दर का तीव्रता से बढ़ना है।

प्रवास एक अन्य कारण है जिससे जनसंख्या के आकार में परिवर्तन होता है। लोग एक देश में अथवा देशों के बीच एक स्थान से दूसरे स्थान पर जा सकते हैं। **उत्प्रवासी** वे लोग होते हैं जो देश को छोड़ते हैं, **आप्रवासी** वे लोग होते हैं जो देश में आते हैं।

संयुक्त राज्य अमेरिका और आस्ट्रेलिया जैसे देशों में भीतरी प्रवास अथवा **आप्रवास** द्वारा संख्या बढ़ी है। सूडान देश एक ऐसा उदाहरण है जिसमें लोगों के बाहर चले जाने अथवा **उत्प्रवास** के कारण जनसंख्या में कमी का अनुभव किया गया है।

अंतर्राष्ट्रीय प्रवास की सामान्य प्रवृत्ति यह है कि लोग अच्छे आर्थिक अवसरों की खोज में कम विकसित राष्ट्रों से अधिक विकसित राष्ट्रों में चले जाते हैं। देशों के अंदर बड़ी संख्या में लोग रोजगार, शिक्षा और स्वास्थ्य सुविधाओं की खोज में ग्रामीण क्षेत्रों से नगरीय क्षेत्रों की ओर चले जाते हैं।

### जनसंख्या परिवर्तन के प्रतिरूप

जनसंख्या वृद्धि की दर विश्व में अलग-अलग है (चित्र 5.5)। यद्यपि विश्व की कुल जनसंख्या तीव्रता से बढ़ रही है, तथापि सभी देशों में यह वृद्धि अनुभव नहीं की जा रही है। कुछ देशों में जैसे केन्या में जनसंख्या वृद्धि दर ऊँची है। उन देशों में जन्म दर और मृत्यु दर दोनों ही उच्च हैं। हाल ही में स्वास्थ्य सेवाओं में सुधार के साथ मृत्यु दर कम हो गई है परंतु जन्म दर अभी भी अधिक है जिससे वृद्धि दर बढ़ रही है।

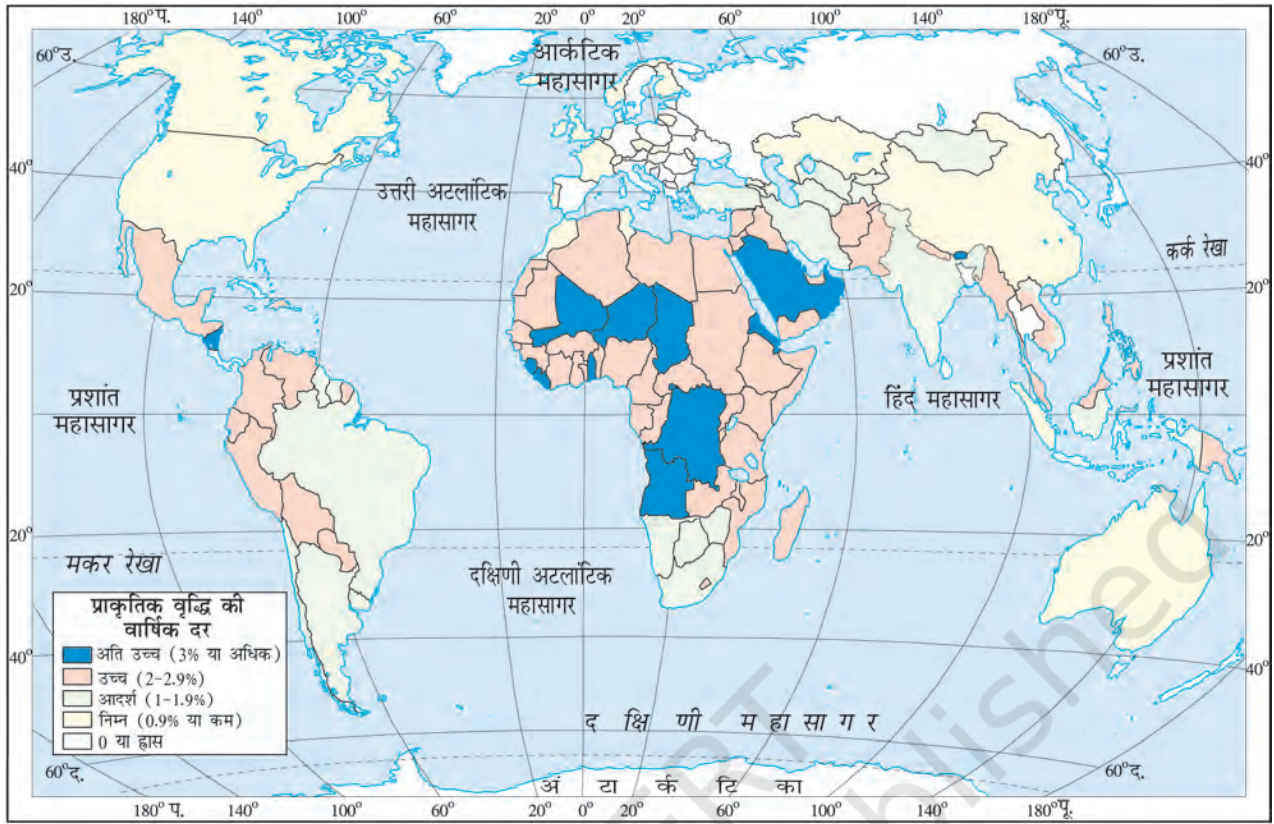
अन्य देशों में जैसे यूनाइटेड किंगडम में निम्न जन्म दर और मृत्यु दर के कारण जनसंख्या वृद्धि की दर मंद है।

**शब्दावली**

**आप्रवास**  
जब व्यक्ति नए देश में जाता है।

**उत्प्रवास**  
जब व्यक्ति एक देश को छोड़ता है।





चित्र 5.5 : विश्व - जनसंख्या वृद्धि की अलग-अलग दरें

## जनसंख्या संघटन

किसी देश की जनसंख्या कितनी भी अधिक हो उसका उस देश के आर्थिक विकास के स्तर से कुछ अंतर नहीं पड़ता। उदाहरण के लिए बांग्लादेश और जापान अति घने बसे देश हैं लेकिन जापान बांग्लादेश से आर्थिक रूप से अधिक विकसित देश है।

एक संसाधन के रूप में लोगों की भूमिका को समझने के लिए हमें उनके गुणों के बारे में जानने की आवश्यकता होती है। लोग अपनी आयु, लिंग, साक्षरता स्तर, स्वास्थ्य दशाओं, व्यवसाय और आय के स्तर पर एक-दूसरे से भिन्न होते हैं। लोगों की इन विशेषताओं के बारे में जानना आवश्यक है। जनसंख्या संघटन जनसंख्या की संरचना को दर्शाता है।

मैं अपने पोते-पोतियों को कहानी सुनाती हूँ।

मैं सेतु बनाता हूँ।

मैं विवाह समारोह में गाता हूँ।

मैं घर की देखभाल करती हूँ।

मैं कैंसर उपचार की औषधियों के लिए शोध कर रही हूँ।

मैं किसान हूँ।

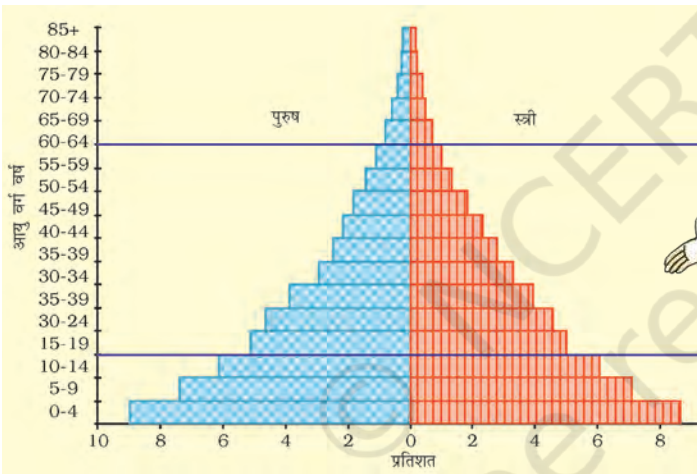
सोचें: प्रत्येक व्यक्ति समाज के लिए एक संभाव्य संसाधन है। मानव संसाधन के रूप में आपका योगदान क्या होगा?

जनसंख्या संघटन हमारी यह जानने में सहायता करता है कि कितने पुरुष हैं और कितनी स्त्रियाँ हैं, वे किस आयु वर्ग के हैं, कितने शिक्षित हैं और वे किस प्रकार के व्यवसाय में लगे हैं, उनकी आय का क्या स्तर है और स्वास्थ्य दशाएँ कैसी हैं? एक देश के जनसंख्या संघटन का अध्ययन करने की एक रुचिकर विधि 'जनसंख्या पिरामिड' है जिसे आयु लिंग पिरामिड भी कहते हैं।

एक जनसंख्या पिरामिड दर्शाता है

- कुल जनसंख्या विभिन्न आयु वर्गों में विभाजित है, उदाहरणार्थ 5 से 9 वर्ष, 10 से 14 वर्ष
- कुल जनसंख्या का प्रतिशत इन वर्गों में से प्रत्येक वर्ग में पुरुष और स्त्रियाँ उपविभाजित हैं।

जनसंख्या पिरामिड का आकार उस विशिष्ट देश में रहने वाले लोगों की कहानी बताता है। बच्चों की संख्या (15 वर्ष से नीचे) निचले भाग



चित्र 5.6 : एक जनसंख्या पिरामिड

ये त्रिभुजाकार प्रतीत होने वाला आरेख क्या है?



यह जनसंख्या पिरामिड है।



वह क्या है?



ये एक देश में पुरुष और स्त्रियों की वर्तमान जनसंख्या को उनके आयु वर्ग में दर्शाया करते हैं।



क्या मैं डिटेक्टिव बन सकता हूँ और एक देश की जनसंख्या का पता लगा सकता हूँ?



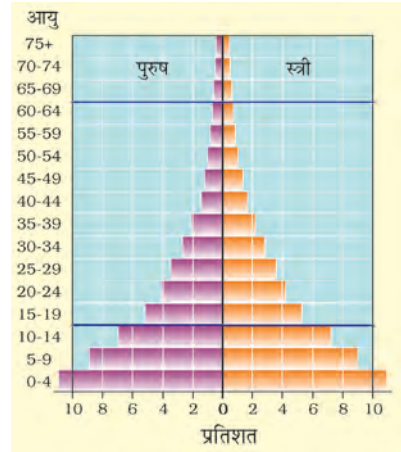
अवश्य, हम तीन देशों का अध्ययन करते हैं।



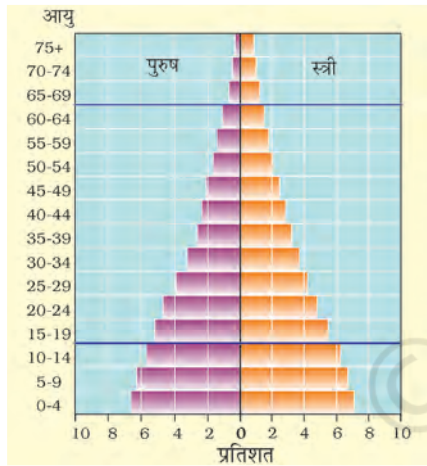
में दिखाई गई है और यह जन्म के स्तर को दर्शाती है। ऊपर का आकार वृद्ध लोगों (65 वर्ष से अधिक) की संख्या दर्शाता है और मृतकों की संख्या को दर्शाता है।

जनसंख्या पिरामिड एक देश में आश्रित लोगों की संख्या भी बताता है। युवा आश्रित लोग (15 वर्ष से कम आयु के) और वृद्ध आश्रित लोग (65 वर्ष से अधिक आयु के) आश्रित आयु जनसंख्या के अंतर्गत आते हैं। कार्यरत आयु वर्ग (15-65) के लोगों को आर्थिक रूप से सक्रिय वर्ग में रखा गया है।

एक देश का जनसंख्या पिरामिड जिसमें जन्म दर और मृत्यु दर दोनों ही ऊँचे हैं, आधार पर चौड़ा है और ऊपर तीव्रता से सँकरा हो जाता है। ऐसा इसलिए है कि बहुत से बच्चे जन्म लेते हैं लेकिन उनमें से अधिकतर की मृत्यु शैशव काल में ही हो जाती है और कुछ ही बड़े हो पाते हैं। इसलिए वहाँ वृद्ध लोग बहुत कम हैं। इस स्थिति को केन्या के पिरामिड द्वारा दर्शाया गया है (चित्र 5.7)।



चित्र 5.7 : केन्या का पिरामिड

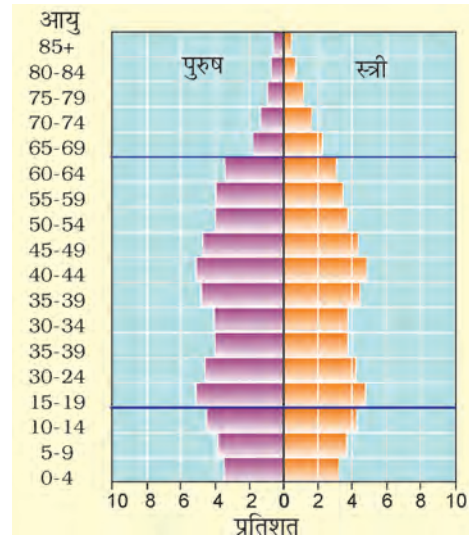


चित्र 5.8 : भारत का पिरामिड

जिन देशों में मृत्यु दर (विशेष रूप से बहुत छोटे बच्चों में) कम हो रही है, युवा आयु वर्ग का पिरामिड चौड़ा है क्योंकि शिशु प्रौढ़ावस्था तक जीवित रहते हैं। यह भारत के पिरामिड में दृष्टिगोचर होता है (चित्र 5.8)। इस प्रकार की जनसंख्या में युवा सापेक्षतः अधिक हैं इसका अर्थ मजबूत और वर्धमान बढ़ती हुई श्रम शक्ति है।

कम जन्म दर वाले जापान जैसे देशों में आधार पर पिरामिड सँकरा है (चित्र 5.9)। घटी मृत्यु दर के कारण अधिक लोग वृद्ध आयु तक पहुँच जाते हैं।

कुशल, उत्साही, आशावादी और सकारात्मक दृष्टि जैसे युवा जन किसी राष्ट्र के भविष्य होते हैं। हम भारतवासी भाग्यशाली हैं कि हमारे पास ऐसा संसाधन है। उन्हें योग्य एवं उत्पादक बनाने के लिए, कुशल बनाने और अवसर प्रदान करने के लिए अवश्य ही शिक्षित किया जाना चाहिए।



चित्र 5.9 : जापान का पिरामिड





## अभ्यास

### 1. निम्नलिखित प्रश्नों के उत्तर दीजिए -

- (i) लोगों को एक संसाधन क्यों समझा जाता है?
- (ii) विश्व में जनसंख्या के असमान वितरण के क्या कारण हैं?
- (iii) विश्व की जनसंख्या अत्यंत तीव्रता से बढ़ रही है। क्यों?
- (iv) जनसंख्या परिवर्तन को प्रभावित करने वाले किन्हीं दो कारकों की भूमिका का वर्णन कीजिए।
- (v) जनसंख्या संघटन से क्या तात्पर्य है?
- (vi) जनसंख्या पिरामिड क्या है? ये किसी देश की जनसंख्या को समझने में किस प्रकार मदद करते हैं?

### 2. सही को चिह्नित कीजिए -

- (i) जनसंख्या वितरण शब्द से क्या तात्पर्य है?
  - (क) किसी विशिष्ट क्षेत्र में समय के साथ जनसंख्या में किस प्रकार परिवर्तन होता है।
  - (ख) किसी विशिष्ट क्षेत्र में जन्म लेने वाले लोगों की संख्या के संदर्भ में मृत्यु प्राप्त करने वाले लोगों की संख्या।
  - (ग) किसी दिए हुए क्षेत्र में लोग किस रूप में वितरित हैं।
- (ii) वे तीन मुख्य कारक कौन से हैं जिनसे जनसंख्या में परिवर्तन होता है?
  - (क) जन्म, मृत्यु और विवाह
  - (ख) जन्म, मृत्यु और प्रवास
  - (ग) जन्म, मृत्यु और जीवन प्रत्याशा
- (iii) 1999 में विश्व की जनसंख्या हो गई -
  - (क) 1 अरब
  - (ख) 3 अरब
  - (ग) 6 अरब
- (iv) जनसंख्या पिरामिड क्या है?
  - (क) जनसंख्या का आयु-लिंग संघटन का आलेखीय निरूपण।
  - (ख) जब किसी क्षेत्र का जनघनत्व इतना बढ़ जाता है कि लोग ऊँची इमारतों में रहते हैं।
  - (ग) बड़े नगरीय क्षेत्रों में जनसंख्या वितरण का प्रतिरूप।



### 3. नीचे दिए शब्दों का उपयोग करके वाक्यों को पूरा कीजिए –

विरल, अनुकूल, परती, कृत्रिम, उर्वर, प्राकृतिक, चरम, घना।

जब लोग किसी क्षेत्र की ओर आकर्षित होते हैं तब यह..... बसा हुआ बन जाता है। इसे प्रभावित करने वाले कारकों के अंतर्गत.....जलवायु,.....संसाधनों की आपूर्ति और.....  
.....जमीन आते हैं।

### 4. क्रियाकलाप

जिस समाज में '15 वर्ष से कम आयु के बहुत से लोग' हैं और '15 वर्ष से कम आयु के बहुत कम लोग' हैं उस समाज की विशेषताओं का वर्णन करो –

संकेत: विद्यालय की आवश्यकता, पेंशन स्कीम, शिक्षक, खिलौने, पहिएदार कुर्सी, श्रम आपूर्ति, अस्पताल।

### अधिक जानकारी के लिए इंटरनेट पर कुछ महत्वपूर्ण स्रोत

[www.ndmindia.nic.in](http://www.ndmindia.nic.in)

[www.environmentdefense.org](http://www.environmentdefense.org)

[www.freefoto.com](http://www.freefoto.com)

[www.worldgame.org/worldmeters](http://www.worldgame.org/worldmeters)

[www.cseindia.org](http://www.cseindia.org)

[www.mnes.nic.in](http://www.mnes.nic.in)

[www.undp.org/popin](http://www.undp.org/popin)



# भारत का संविधान

भाग-3 (अनुच्छेद 12-35)

(अनिवार्य शर्तों, कुछ अपवादों और युक्तियुक्त निर्बंधन के अधीन)

द्वारा प्रदत्त

## मूल अधिकार

### समता का अधिकार

- विधि के समक्ष एवं विधियों के समान संरक्षण;
- धर्म, मूलवंश, जाति, लिंग या जन्मस्थान के आधार पर;
- लोक नियोजन के विषय में;
- अस्पृश्यता और उपाधियों का अंत।

### स्वातंत्र्य-अधिकार

- अभिव्यक्ति, सम्मेलन, संघ, संचरण, निवास और वृत्ति का स्वातंत्र्य;
- अपराधों के लिए दोष सिद्धि के संबंध में संरक्षण;
- प्राण और दैहिक स्वतंत्रता का संरक्षण;
- छः से चौदह वर्ष की आयु के बच्चों को निःशुल्क एवं अनिवार्य शिक्षा;
- कुछ दशाओं में गिरफ्तारी और निरोध से संरक्षण।

### शोषण के विरुद्ध अधिकार

- मानव के दुर्व्यापार और बलात श्रम का प्रतिषेध;
- परिसंकटमय कार्यों में बालकों के नियोजन का प्रतिषेध।

### धर्म की स्वतंत्रता का अधिकार

- अंतःकरण की और धर्म के अबाध रूप से मानने, आचरण और प्रचार की स्वतंत्रता;
- धार्मिक कार्यों के प्रबंध की स्वतंत्रता;
- किसी विशिष्ट धर्म की अभिवृद्धि के लिए करों के संदाय के संबंध में स्वतंत्रता;
- राज्य निधि से पूर्णतः पोषित शिक्षा संस्थाओं में धार्मिक शिक्षा या धार्मिक उपासना में उपस्थित होने के संबंध में स्वतंत्रता।

### संस्कृति और शिक्षा संबंधी अधिकार

- अल्पसंख्यक-वर्गों को अपनी भाषा, लिपि या संस्कृति विषयक हितों का संरक्षण;
- अल्पसंख्यक-वर्गों द्वारा अपनी शिक्षा संस्थाओं का स्थापन और प्रशासन।

### सांविधानिक उपचारों का अधिकार

- उच्चतम न्यायालय एवं उच्च न्यायालय के निर्देश या आदेश या रिट द्वारा प्रदत्त अधिकारों को प्रवर्तित कराने का उपचार।